



کد محصول  
ES377



آخرین بروزرسانی  
۲۰ آبان ۱۴۰۴

## سوالات استخدامی

# تامین اجتماعی

- ✓ ویژه آزمون استخدامی تامین اجتماعی
- ✓ نسخه رایگان شامل ۲۵۸ سوال (تعداد کمتر و تنها برخی دارای پاسخ)
- ✓ برای تهیه نسخه اصلی، با ۱۶۸۰ سوال به همراه پاسخنامه تشریحی، به سایت ایران عرضه مراجعه نمایید.



## لینک های مفید آزمون استخدامی تامین اجتماعی

خرید این محصول	سوالات رایگان تامین اجتماعی با پاسخنامه
خرید سوالات استخدامی ۱۰ سال اخیر	خرید درسنامه تامین اجتماعی
خرید سوالات مصاحبه	خرید درسنامه مصاحبه
خرید سوالات جهاد دانشگاهی (مجری آزمون)	منابع آزمون
اخبار آزمون	شبکه های اجتماعی ایران عرضه (فایل های رایگان + تخفیفات هفتگی + اخبار)

(برای مشاهده هر بخش روی آن بزنید )

### آخرین بروزرسانی ها:

۱۴۰۴/۰۸/۲۰ آپدیت سوالات شناخت تامین

۱۴۰۴/۰۷/۲۸ ایجاد فصل جدید (سوالات قوانین و مقررات اداری و قانون اساسی)

۱۴۰۴/۰۶/۳۰ تالیف مجدد محصول

## فهرست مطالب

## ❖ فصل اول: سوالات معارف اسلامی - صفحه ۴

- ◀ بخش اول: اندیشه های سیاسی مقام معظم رهبری (۵ سوال)
- ◀ بخش دوم: معارف اسلامی در آثار شهید مطهری (۵ سوال)
- ◀ بخش سوم: اخلاق اسلامی برگرفته از آثار آیت اله محمد تقی مصباح یزدی (۵ سوال)
- ◀ بخش چهارم: احکام و معارف اسلامی (۵ سوال)

## ❖ فصل دوم: سوالات زبان و ادبیات فارسی - صفحه ۸ (۱۵ سوال)

## ❖ فصل سوم: سوالات ریاضی و آمار مقدماتی - صفحه ۱۱ (۱۵ سوال)

## ❖ فصل چهارم: سوالات اطلاعات عمومی، دانش اجتماعی و حقوق اساسی - صفحه ۱۳ (۱۵ سوال)

## ❖ فصل پنجم: سوالات زبان انگلیسی عمومی - صفحه ۱۵ (۱۵ سوال)

## ❖ فصل ششم: سوالات هوش و استعداد شغلی - صفحه ۱۸ (۱۵ سوال)

## ❖ فصل هفتم: سوالات فناوری اطلاعات - صفحه ۲۳ (۱۵ سوال)

## ❖ فصل هشتم: سوالات شناخت تامین اجتماعی - صفحه ۲۶ (۱۵ سوال)

## ❖ فصل نهم: سوالات قوانین و مقررات اداری و قانون اساسی - صفحه ۲۹

◀ بخش اول: قوانین و مقررات اداری (۵ سوال)

◀ بخش دوم: قانون اساسی (۵ سوال)

## ❖ فصل دهم: سوالات آزمون استخدامی سازمان تامین اجتماعی سال ۱۴۰۱ - صفحه ۳۱ (۳۳ سوال)

فناوری اطلاعات - معارف - ادبیات - اطلاعات عمومی - ریاضی و آمار

## ❖ فصل یازدهم: سوالات آزمون استخدامی سازمان تامین اجتماعی فروردین سال ۱۴۰۳ - صفحه ۳۶

(۹۰ سوال)

فناوری اطلاعات - معارف - ادبیات - ریاضی - اطلاعات عمومی - زبان - هوش - شناخت تامین اجتماعی

در هر بخش، تنها ۱ سوال ابتدایی دارای پاسخنامه تشریحی می باشد. در صورت تمایل به دریافت سوالات بیشتر با جواب تشریحی می توانید این محصول را از سایت ایران عرضه خریداری نمایید.

خرید محصول

## ❖ فصل اول: سوالات معارف اسلامی

### ◀ بخش اول: اندیشه های سیاسی مقام معظم رهبری

۱- چرا شناخت اندیشه های سیاسی رهبر انقلاب ضروری است؟

(۱) فهم سیاستهای کلان ایران اسلامی (۲) شناخت بیشتر رهبر

(۳) شناخت اندیشه عالمان دینی (۴) شناخت جایگاه ولایت فقیه

❑ پاسخ سایت ایران عرضه: گزینه ۱ ➡ با توجه به ضرورت شناخت اندیشه عالمان دینی و نیز تحلیل این اندیشهها برای پیشبرد جامعه اسلامی با توجه به جایگاه ولایت فقیه در نظام جمهوری اسلامی ایران و آرای حاکم اسلامی، شناخت اندیشههای سیاسی رهبر انقلاب آیت الله خامنه‌ای به منظور سیاستهای کلان ایران اسلامی ضروری مینماید.

۲- کدام موضوعات از هدفهای پژوهش درباره تبیین اندیشههای سیاسی آیت الله خامنه‌ای نیست؟

(۱) قدرت (۲) مذهب (۳) ولایت فقیه (۴) مردم سالاری دینی

۳- از نظر تیندر شناخت اندیشه سیاسی نتیجه چیست؟ (منبع ایران عرضه)

(۱) بیان نظریهها و ایدهها یی که موجب شکلگیری یک اندیشه میگردد.

(۲) به تفکر در باب پرسشهای اساسی از محیط خویش

(۳) آشنایی با شکها و پرسشهایی است که اندیشه از درون آنها به وجود میآید

(۴) مورد ۲ و ۳

۴- در باور تیندر با اندیشیدن میتوان به چه چیزی رسید؟

(۱) عدالت (۲) خلاقیت (۳) صداقت (۴) انسانیت

۵- کدام گزینه استدلال هابز را بیان میکند؟

(۱) انسانها به طور ذاتی از هم بیگانهاند.

(۲) وضعیت ذاتی انسانها جنگ همه انسانها بر ضد همه انسانهاست.

(۳) مورد ۱ و ۲

(۴) اگر دولت مرکزی، نیرومند باشد انسانها از همزیستی با هم بهره خواهند برد.

## بخش دوم: معارف اسلامی در آثار شهید مطهری

۱- گرایش های والا و معنوی و فوق حیوانی انسان زمانی که زیر بنای ..... و ..... پیدا کند نام "ایمان" به خود میگیرد؟

(۱) اکتسابی و اعتقادی (۲) اعتقادی و فکری

(۳) اختیاری و اعتقادی (۴) آگاهی و اعتقادی

❑ پاسخ سایت ایران عرضه: گزینه ۲ ➡ گرایشهای معنوی و والای بشر، زاده ایمان و اعتقاد و دلبستگیهای او به برخی حقایق در این جهان است که آن حقایق، هم ماورای فردی است و هم ماورای مادی است. اینگونه ایمان ها و دلبستگی ها به نوبه ی خود مولود برخی جهان بینی ها و جهان شناسیهاست که یا از طرف پیامبر الهی به بشر عرضه شده است و یا برخی فلاسفه خواسته اند نوعی تفکر عرضه نمایند که ایمانزا و آرمان خیز بوده باشد. به هر حال ( گرایشهای والا و معنوی و فوق حیوانی انسان آنگاه که پایه و زیر بنای "اعتقادی و فکری" پیدا کند نام ایمان به خود میگیرد).

۲- در تعریف ایمان غیر مذهبی کدام گزینه نادرست است؟ (طراحی توسط ایران عرضه)

(۱) نوعی هماهنگی بین انسان و آرمان های کلی جهان

(۲) نوعی بریدگی از جهان و ساختن جهان خیالی

(۳) نوعی عدم حمایت از جهان بیرون

(۴) گزینه ۲ و ۳

۳- در بحث ایمان مذهبی چه کسی معتقد بود که، "مسئله این نیست که انسان دین دارد یا نه، بلکه این است که کدام دین را دارد؟"

(۱) ویلیام جیمز (۲) جورج سارتن (۳) اریک فروم (۴) ویل دورانت

۴- از نظر چنین شخصی، مسئول عقب ماندگی او خودش است نه تشکیلات و نظامات کشور، و هر نقصی که وجود دارد از آنجاست که او و امثال او وظیفه و مسئولیت خویش را انجام نداده اند. مربوط به کدام بخش از آثار و فواید ایمان است؟

(۱) نقش ایمان در بهبود روابط فردی (۲) بهجت و انبساط

(۳) کاهش ناراحتی ها (۴) اطمینان به شرایط محیط

۵- قرآن کریم در سوره های (آل عمران و روم) به این مورد اشاره کرده و آن را نوعی هم آهنگی با دستگاه آفرینش خوانده است.

(۱) علم و ایمان (۲) علم و عمل (۳) ایمان غیر مذهبی (۴) ایمان مذهبی

## بخش سوم: اخلاق اسلامی برگرفته از آثار آیت اله محمد تقی مصباح یزدی

۱- کدام واژه به معنای صفت نفسانی یا حالتی است که در نفس رسوخ و ثبات داشته است؟

- (۱) خود شناسی (۲) اخلاق (۳) فطرت (۴) رنج گریزی

❑ پاسخ سایت ایران عرضه: گزینه ۲ ➡ اخلاق به معنای صفت نفسانی یا حالتی است که در نفس رسوخ و ثبات داشته باشد و موجب شود کارهایی متناسب با آن بدون نیاز به فکر و سنجش از انسان صادر شود؛ مانند ملکه سخاوت که حالتی نفسانی است.

۲- کدام گزینه در تعریف علم اخلاق از نظر نراقی به درستی اشاره شده است؟

(۱) علم اخلاق علمی است که عهده دار بیان صفات هلاک کننده و نجات بخش و تعیین اسباب آنهاست

(۲) علمی است که از فضایل و رزایل و چگونگی آراستن به فضایل بحث می کند.

(۳) این علم حالات نفسانی و افعال ارزشی است که احکام آن مطابق با اسلام است.

(۴) این علم حالات فضایی و اصول ارزشی است که احکام آن مطابق با اسلام است.

۳- در آیه "هُوَ الَّذِي بَعَثَ فِي الْأُمِّيِّينَ رَسُولًا مِنْهُمْ يَتْلُو عَلَيْهِمْ آيَاتِهِ وَ يُزَكِّيهِمْ وَيُعَلِّمُهُمُ الْكِتَابَ وَالْحِكْمَةَ" خداوند یکی از اهداف

بعثت انبیاء را ..... بر شمرده است؟ (منتشر کننده سوالات ایران عرضه)

(۱) درک و دریافت حکمت الهی (۲) تهذیب جسم و روح

(۳) عمل به دستورات خداوند (۴) تزکیه و اصلاح نفس

۴- اگر منظور از اخلاق اسلامی تدوین و تبویب منظم آن باشد آنگاه ..... .

(۱) تاریخچه آن به زمان پیامبر اکرم (ص) می رسد.

(۲) شکوفایی استعدادها و بالندگی در مفهوم آن نهفته است.

(۳) تاریخچه آن پس از زمان پیامبر اکرم و ائمه اطهار آغاز می شود.

(۴) کارها به راحتی و بدون فکر انجام می شود و اخلاق ملکه ای انسانی است.

۵- کدام یک از کتابهای زیر از سه بخش اصول و فروع و روضه تشکیل شده است؟

- (۱) کتاب العشیره (۲) الکافی (۳) اخلاق ناصری (۴) تهذیب الاخلاق



## بخش چهارم: احکام و معارف اسلامی

۱- در آیه کریمه (کل شیء هالک الا وجهه) مقصود مفسران از وجه الله کدام است؟

(۱) وجود الهی (۲) ذات الهی (۳) بقا و ابدیت (۴) فنا ناپذیری

✗ پاسخ سایت ایران عرضه: گزینه ۲ در ارتباط با آیه ۸۸ سوره قصص تفاسیر مختلفی وجود دارد که اولین مورد از آنها به این اشاره دارد که خدا جسم نیست و مانند انسانها چهره و صورت ندارد و از آنجا که در زبان عربی واژه «وجه الشئ» در معنی «ذات الشئ» به کار می رود، در بسیاری از آیات قرآن، «وجه الله» به معنای ذات خدا خواهد بود. در تفسیری دیگر نیز گفته شده است که مراد از «وجه»، هر چیزی است که به نوعی منسوب به خداست، از اسماء و صفات تا ادیان و اعمال صالح بندگان و همچنین مقربین درگاه او، از انبیاء، ملائکه، شهدا و مؤمنینی که مشمول مغفرتش شده باشند، همه وجه خدایند.

۲- یکی از اسامی قیامت یوم الازفه به چه معناست؟ (منبع ایران عرضه)

(۱) بسیار نزدیک (۲) جدایی حق از باطل  
(۳) جمع شدن (۴) خارج شدن از قبور

۳- کدام گزینه صحیح است؟

(۱) ذات الهی قابل شناخت است.

(۲) صفات و اوصاف الهی شناخت ناپذیرند.

(۳) خداشناسی از رهگذر اوصاف و افعال الهی برای انسان میسر است.

(۴) آدمی از هر گونه معرفتی نسبت به خدا محروم است.

۴- از ذکر "لا حول و لا قوه الا بالله" کدام توحید فهمیده میشود؟ (تنظیم توسط فروشگاه ایران عرضه)

(۱) توحید افعالی (۲) توحید عبادی

(۳) توحید در خالقیت (۴) توحید ربوبی

۵- سرشت فرشتگان کدام است؟

(۱) رسالت تکوینی (۲) جسم لطیف روحی

(۳) گوهر سبحانی (۴) گوهر تمام عقلانی

## ❖ فصل دوم: سوالات زبان و ادبیات فارسی

۱- برای جدا کردن جمله هایی که از جهت ساختمان و مفهوم، مستقل به نظر می رسند، ولی در یک عبارت طولانی، با یکدیگر بستگی معنایی دارند، از کدام علامت نگارشی استفاده می شود؟

- (۱) خط فاصله (۲) ویرگول (۳) نقطه ویرگول (۴) سه نقطه

❑ پاسخ سایت ایران عرضه: گزینه ۳ ← میان عبارت ها و جمله های غیر مستقل که در مجموع جمله ی کاملی را تشکیل می دهند، ویرگول به کار می رود. (مانند: او با تلاش بسیار، به مقصود رسید.)

اما اگر مستقل به نظر می رسند، ولی در یک عبارت طولانی با یکدیگر بستگی معنایی دارند، نقطه ویرگول به کار می رود. (مانند: دانش آموز باید درس بخواند؛ منظم باشد و به سخنان معلم گوش دهد.)

۲- مفهوم «شهادت، پل عروج مردان حق است» از کدام بیت دریافت می شود؟

- (۱) هر سری در خور اقبال، کلاهی دارد سایه ی دار فنا، تاج سر مردان است  
(۲) در عشق اگر دمی قرارت باشد با صحبت این و آن چه کارت باشد  
(۳) سخن سرا شود چون بریده شد، سر او اگر چه هیچ سخن سر بریده، نسراید  
(۴) پاکدل را زیان به تن نرسد ور رسد، جز به پیرهن نرسد

۳- مفهوم کنایی «سیر را از گرسنه چه غم» در کدام بیت نهفته شده است؟

- (۱) ما عبث در سینه ی دریا، نفس را سوختیم گوهر مقصود، در دامن ساحل بوده است  
(۲) جان و هرچه در او هست، با نعیم بهشت نه نعمتی است، که باز آورد فقیر از دوست  
(۳) ملامت گوی عاشق را چه گوید مردم دانا؟ که حال غرقه در دریا نداند خفته بر ساحل  
(۴) ستایش سرایان، نه یار تواند ملامت کنان، دوستدار تواند

۴- معنی واژه های «ساری - شاذ» به ترتیب کدام است؟

- (۱) بانشاط- تیز (۲) نفوذکننده - نادر  
(۳) مسرور - طرب جوی (۴) سروری - تیزی

۵- در بیت زیر، معنای «صد زبان» کدام است؟

«صاحب سری عزیزی صدزبان گر بدی آنجا بداری صلحشان»

- (۱) معترض و گله مند (۲) سخن چین و حراف  
(۳) فصیح و بلیغ (۴) فتنهانگیز و جاسوسی

۶- کدام اثر، از آثار «فریدون مشیری» است؟

- (۱) آه باران (۲) سوتهدلان (۳) کرامت آبی (۴) از این اوستا

۷- کدام یک از شعرای نامبرده حبسیه سراسر است؟



(۱) عبید زاکانی

(۲) خواجهی کرمانی

(۳) مسعود سعد سلمان

(۴) فخرالدین عراقی

# ۸- در کدام گروه کلمه، غلط املایی یافت میشود؟

(۱) عجز و لابه - واثق و معتمد

(۲) محمل و کجاوه - زنجیر و مسلسل

(۳) گزیر و گریز - مڈلت و خواری

(۴) باطن و ضمیر - محمل و بیهوده

# ۹- در کدام بیت، غلط املایی وجود دارد؟

(۱) بر سر کوت گر از باد اجل خاک شوم

شعله آتش عشق تو زند عظم رمیم

(۲) گر از بهشت نگارم عنان بگرداند

به روز حشر من و دوزخ و عذاب علیم

(۳) اگرچه پشه نیارد شدن ملازم باز

مرا به منزل طاووس رغبت است عظیم

(۴) من از این ورطه هجران نبرم جان به کار

زان که غرقاب غم عشق تو بحری است عظیم

# ۱۰- بیت زیر، فاقد کدام آرایه ی ادبی است؟

«در عشق چو قربان شوی از کیش برون آی

ور لاف انالحق زنی از دار میندیش»

(۱) تشبیه

(۲) تلمیح

(۳) مراعات نظیر

(۴) ایهام تناسب

# ۱۱- آرایه‌های بیت زیر کداماند؟

«ای حلقه زده افعی مشکین تو بر دوش

وی خنده زده شکر شیرین تو بر نوش»

(۱) استعاره - جناس

(۲) ایهام - مراعات نظیر

(۳) تشبیه - حسن تعلیل

(۴) مجاز - حسن تعلیل

# ۱۲- تکیه ی مفهوم بیت زیر بر کدام مطلب است؟

«فیض روح القدس ار باز مدد فرماید

دیگران هم بکنند آنچه مسیحا میکرد»

(۱) تلاش عاشق

(۲) شفاعت جبرئیل

(۳) تعالی روح

(۴) عنایت معشوق

# ۱۳- مفهوم بیت زیر، با کدام بیت یکسان است؟

«از بهر دفع غم به کسی گر بری پناه

هم غم به جای ماند و هم آبرو رود»

(۱) به دست من و توست نیک اختری

اگر بد نجویم نیک اختریم

(۲) آدمی گرچه بر زمانه مه است

ز آدمی خام دیو پخته به است

(۳) دست طمع چوپیش کسان میکنی دراز پل بسترهای که بگذری از آبروی خویش

دست طمع چوپیش کسان میکنی دراز پل بسترهای که بگذری از آبروی خویش

(۴) به دشمن رسد هرچه باشد به گنج

بده تا روانت نباشد به رنج

# ۱۴- کدام عبارت، به ویرایش نیاز دارد؟

(۱) کفشی را که خریده بودی، پسندیدم.

(۲) منطق‌الطیر، توسط عطار نیشابوری سروده شد.

(۳) دیدگاه او با دیدگاه روانشناسان، متفاوت است.

(۴) در کلاس، هم میز هست و هم تخته.

۱۵- در کدام مصراع، واژه ی مرکب وجود دارد؟

(۱) هم صغیر و خدعه ی مرغان تویی      (۲) ای زبان، تو بس زیانی مرا

(۳) مرد غرقه گشته جانی میکند      (۴) ای دریغا مرغ خوشال‌حان من



## ❖ فصل سوم: سوالات ریاضی و آمار مقدماتی

۱- در جدول زیر بجای علامت سوال کدام گزینه را می توان قرار داد؟

۱	۳۱	۲
۲	۵۲	۳
۳	۶۳	؟

۳ (۱)

۲ (۲)

۴ (۳)

۱ (۴)

❑ پاسخ سایت ایران عرضه: گزینه ۱ ⇐ اگر به اعداد ستون وسط در جدول توجه کنیم متوجه می شویم که رقم دهگان از حاصل جمع اعداد موجود در ستون های کناری بدست آمده است. به طور مثال داریم:

$$\underline{31} = 1 + 2$$

$$\underline{52} = 2 + 3$$

$$\underline{63} = 3 + 3$$

۲- ۱۱۴۰ ثانیه دیگر ساعت ۵ و ۳۰ دقیقه خواهد شد. الآن ساعت چند است؟

(۱) چهار و یازده دقیقه

(۲) پنج و چهل و نه دقیقه

(۳) پنج و یازده

(۴) چهار و پنجاه و یک دقیقه

۳- سعید بلندتر از مسعود و کوتاه تر از حمید است، حامد کوتاه تر از سعید اما بلندتر از مسعود است. قد کدام یک بلندتر از همه است؟

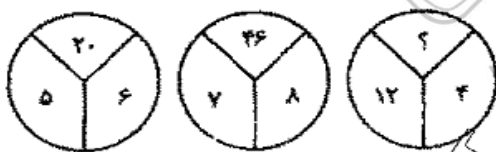
(۱) حمید

(۲) سعید

(۳) حامد

(۴) مسعود

۴- با توجه به شکل های مقابل مقدار؟ را بیابید :



۱۶ (۱)

۱۸ (۲)

۳۸ (۳)

۵۸ (۴)

۵- در دنباله حروف زیر حرف مجهول چه حرفی است؟ «ژ، ص، ر، ط، د، ع،؟»

(۱) ج

(۲) چ

(۳) ح

(۴) خ

۶- اگر تعداد زیرمجموعه های مجموعه M از تعداد زیرمجموعه های  $A = \{1, 2, 3\}$  ۸ زیرمجموعه بیشتر باشد. M چند عضو دارد؟

۳ (۱)

(۲) ۴

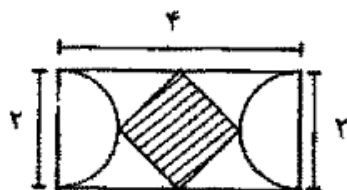
(۳) ۵

(۴) ۶

۸- اگر تمامی داده های آماری را دو برابر کنیم مد و میانه حاصل چگونه اند؟

- (۱) مد ثابت و میانه دو برابر می شود.  
(۲) مد و میانه هر دو دو برابر می شوند.  
(۳) مد دو برابر و میانه ثابت می ماند.  
(۴) مد دو برابر و میانه نصف می شود.

۱۰- با توجه به شکل مقابل مساحت چهار ضلعی وسطی چند است؟



(۱) ۱

(۲) ۲

(۳)  $\sqrt{3}$

(۴) ۴

۱۱- اگر A و B دو مجموعه ناتهی باشند، مجموعه  $A - (A \cap B)$  کدام است؟

(۱)  $A \cap B$  (۲)  $A \cap B'$  (۳)  $B \cap A'$  (۴)  $(A \cup B)'$

۱۲- اگر تابع  $f(x) = \sqrt{2x} - 1$  و  $g(x) = x^2 + 1$  باشد، مقدار (gof) به مقدار  $x=2$  کدام است؟

(۱) ۱ (۲) ۲ (۳) ۳ (۴) ۴

۱۳- مجموع ده جمله اول تصاعد هندسی  $\{3, 6, 12, \dots\}$  کدام است؟

(۱) ۳۰۹۶ (۲) ۳۰۶۹ (۳) ۶۹۳۰ (۴) ۹۶۳۰

۱۴- جواب های معادله  $\begin{cases} 5x + 2y = 19 \\ 4x + 3y = 18 \end{cases}$  کدام است؟

(۱)  $x = -3, y = 2$  (۲)  $x = 2, y = 3$

(۳)  $x = -3, y = -2$  (۴)  $x = 3, y = 2$

۱۵- جواب های معادله درجه دوم  $x^2 - 5x + 6 = 0$  کدامند؟

(۱)  $x_1 = 1, x_2 = 2$  (۲)  $x_1 = 3, x_2 = 2$

(۳)  $x_1 = 2, x_2 = 4$  (۴)  $x_1 = 3, x_2 = 4$

## ❖ فصل چهارم: سوالات اطلاعات عمومی، دانش اجتماعی و حقوق اساسی

۱- کدام یک از موارد زیر وابسته به سازمان ملل متحد نیست؟

- (۱) ناتو (۲) شورای امنیت (۳) یونسکو (۴) دادگاه بین المللی لاهه

❑ پاسخ سایت ایران عرضه: گزینه ۱ ← \* سازمان پیمان آتلانتیک شمالی یا ناتو با هدف دفاع جمعی در آمریکا پایه گذاری شد و هم اکنون ۲۸ عضو دارد. قلب پیمان ناتو ماده ۵ آنهاست که در آن کشورهای امضا کننده توافق کرده اند حمله نظامی علیه یک یا چند کشور عضو در اروپا یا آمریکای شمالی رابه عنوان حمله به تمامی کشورهای عضو تلقی کنند و به مقابله آن برخیزند.

\* شورای امنیت ملل متحد یکی از ارکان سازمان ملل متحد است که وظیفه پاسداری از امنیت و صلح بین المللی راب ه عهده دارد. شورای امنیت پنج عضو دائم وده عضو انتخابی دارد. پنج عضو دائم این شورا در تصمیم ها و رای گیری های شورا حق وتو دارند. ریاست شورای امنیت نوبتی است (به ترتیب ابای انگلیسی) و طول مدت آن یک ماه ریاست می باشد.

\* سازمان علمی، فرهنگی و تربیتی ملل متحد که به طور خلاصه یونسکو نامیده می شود، یکی از سازمان های تخصصی وابسته به سازمان ملل متحد است که در سال ۱۹۴۵ تشکیل شد.

\* دیوان بین المللی دادگستری معروف به دادگاه جهانی رکن قضائی اصلی سازمان ملل متحد است که مقر آن در کاخ صلح شهرلايه در کشور هلند واقع شده است.

۲- کدام گزینه در مورد وضع کشور ژاپن، در دو جنگ جهانی صحیح است؟

- (۱) در هر دو جنگ متحد آلمان بود.

- (۲) درهر دو جنگ مخ آلمان بود.

- (۳) در جنگ جهانی اول علیه آلمان و در جنگ جهانی دوم متحد آلمان بود.

- (۴) درجنگ جهانی اول متحد آلمان ودرجنگ جهانی دوم علیه آلمان بود.

۳- در کشور ایران بیشترین نرخ بیکاری متعلق به کدام یک از گزینه های زیر می باشد؟

- (۱) دارندگان مدرک تحصیلی تکمیلی (۲) افراد زیر دیپلم

- (۳) افراد بالای ۵۰ سال (۴) فارغ التحصیلان دانشگاه ها

۴- فرمان مشروطیت در زمان کدام پادشاه صادر شد؟

- (۱) ناصرالدین شاه (۲) مظفرالدین شاه (۳) محمدعلی شاه (۴) احمدشاه

۵- رژیم اشغالگر اسرائیل با کدام کشور زیر مرز مشترک ندارد؟

- (۱) عراق (۲) لبنان (۳) سوریه (۴) مصر

۶- بر اساس کسب مدال، افتخار آور ترین ورزشکار ایرانی در ادوار مختلف مسابقات المپیک کیست؟

- (۱) غلامرضا تختی (۲) حسین رضا زاده (۳) حمید سوریان (۴) هادی ساعی

۷- کدام کشور، فاقد قانون اساسی مدون است؟

- (۱) نروژ (۲) فرانسه (۳) مصر (۴) انگلستان

۸- کتاب شعر « شرق اندوه » اثر کدام یک از شاعران ایرانی است؟

- (۱) طاهره صفار زاده (۲) سهراب سپهری  
(۳) مهدی اخوان ثالث (۴) احمد شاملو

۹- سازمان بهزیستی کشور، زیر نظر کدام وزارتخانه فعالیت می کند؟

- (۱) وزارت بهداشت، درمان و آموزش پزشکی (۲) وزارت کور  
(۳) وزارت تعاون، کار و رفاه اجتماعی (۴) مستقل است

۱۰- اولین شهید هسته ای جمهوری اسلامی ایران چه کسی است؟

- (۱) مسعود علی محمدی (۲) مجید شهریاری  
(۳) داریوش رضا زاده (۴) مصطفی احمدی روشن

۱۱- چندمین دوره انتخابات شورای اسلامی شهر و روستا همزمان با انتخابات ریاست جمهوری در ۲۹ اردیبهشت ۱۳۹۶ برگزار می شود؟

- (۱) هفتمین (۲) ششمین (۳) پنجمین (۴) چهارمین

۱۲- اجتهاد، شرط تصدی کدام مقام نیست؟

- (۱) رئیس دیوان عالی کشور (۲) رئیس کل دادگستری استان تهران  
(۳) دادستان کل کشور (۴) عضو مجلس خبرگان

۱۳- کدام شورا، در قانون اساسی ذکر نشده است؟

- (۱) شورای عالی استان ها (۲) شورای شهرستان  
(۳) شورای بخش (۴) شورای شهرک

۱۴- آبشار کبودال، در کدام شهر واقع شده است؟

- (۱) خرم آباد (۲) درود (۳) علی آباد کتول (۴) کبودرآهنگ

۱۵- نارین قلعه، از آثار ملی ایران در کدام شهر واقع شده است؟

- (۱) بندرعباس (۲) سمنان (۳) کرمان (۴) میبد



## ❖ فصل پنجم: سوالات زبان انگلیسی عمومی

1- photographers in the nineteenth century were anxious to find a way ..... movement, almost from the moment they discovered the art of photography.

- 1) to be captured                      2) to capturing  
3) being captured                      4) to capture

❑ پاسخ سایت ایران عرضه: گزینه ۴ ← بعد از فعل find؛ فعل دوم به صورت مصدر با to می آید.

معنی جمله: عکاسان در قرن نوزدهم مشتاق پیدا کردن راهی برای ثبت حرکت بودند، اگرچه آنها از حرکت؛ هنر عکاسی را کشف کردند.

2- because there have been threats made against the prince, a team of bodyguards ..... him wherever he goes.

- 1) accompany              2) endorse              3) promote              4) release

3- nothing is more ..... to a mother than her children, and she will always choose to protect them over anything else.

- 1) ridiculous              2) precious              3) suspicious              4) prosperous

4- the ..... of the digital camera has completely changed the nature of popular photography.

- 1) emergence              2) residence              3) persistence              4) coincidence

5- doctors frequently ..... of their patients eating unhealthy and exercising infrequently since it can lead to medical problems.

- 1) boast              2) conceive              3) disapprove              4) accuse

#### part b: reading comprehension

directions: read the following passage and select the choice (1), (2), (3) or (4) that best answers each question. then mark the correct choice on your answer sheet.

mechanical engineer gottlieb wilhelm daimler became a major figure in the early history of the automotive industry. making guns was his first vocation, and he showed marked talent, but he abandoned the trade to go to engineering school, studying in germany, england, and france. in germany he worked for various engineering and machining concerns, including the firm that much earlier had employed karl benz. in 1872 daimler became technical director in the firm of nikolaus a. otto, the man who stationary gasoline engines. during the next decade, important work was done on the four-stroke engine.

daimler brought in several brilliant researchers, among them wilhelm maybach, but in 1882 both daimler and maybach resigned because of daimler`s conviction that otto did not understand the potential of the internal-combustion engine. they set up a shop and built an air-cooled, one-cylinder engine in 1885. the first high-speed internal-combustion engine, it was designed to run at 900 revolutions per minute (rpm). for comparison, benz`s first tricycle engine had operated at only 250 rpm. daimler and maybach used one of their early gasoline engine on a wooden bicycle fitted with an outrigger, which first ran on nov. 10, 1885. this may have been the first motorcycle in the world. the next year the first daimler four-wheeled road vehicle was made a horse drawn carriage modified to be driven by a one-cylinder engine.

**6- what is the passage mainly about?**

- 1) gottlieb daimler`s competition with karl benz.
- 2) gottlieb daimler`s effort in the automotive industry.
- 3) history of the automotive industry.
- 4) the automotive industry in the 19th century.

**7- according to the passage, daimler studied in all of the following countries except.....**

- 1) France
- 2) germany
- 3) England
- 4) italy

**8- what was invented on nov. 10, 1885?**

- 1) the first tricycle engine
- 2) the first motorcycle
- 3) a four-wheeled road vehicle
- 4) a wooden bicycle

**9- who does the word "they" in paragraph 2 refer to?**

- 1) brilliant researchers
- 2) daimler and otto
- 3) maybach and otto
- 4) daimler and maybach

**10- Input devices are the pieces of hardware ..... us to enter information into the computer**

- 1) they allow
- 2) to allow
- 3) allowing
- 4) allows

**11- So widespread has television become ..... many children now combine it with other activities, including social networking online, flicking their eyes from laptop to TV screen and back again.**

- 1) that
- 2) for
- 3) to
- 4) as

**12- I prefer to arrange my holidays myself ..... use a travel agent.**

- 1) although
- 2) rather than
- 3) hardly ever
- 4) and not yet

**13- They wanted to build a factory there, but the local people said that it ..... the country side; hence they discarded their plan.**

- |                         |                  |
|-------------------------|------------------|
| 1) destroys             | 2) destroyed     |
| 3) would have destroyed | 4) would destroy |

**14- The workshop is intended to ..... the trainee Engineers skill to operate the new machinery.**

- |           |            |           |           |
|-----------|------------|-----------|-----------|
| 1) pursue | 2) enhance | 3) praise | 4) expose |
|-----------|------------|-----------|-----------|

**15- Electrical engineers typically ..... a degree in electrical engineering or electronic engineering.**

- |         |         |            |             |
|---------|---------|------------|-------------|
| 1) hold | 2) plan | 3) require | 4) maintain |
|---------|---------|------------|-------------|



## ❖ فصل ششم: سوالات هوش و استعداد شغلی

راهنمایی: متن زیر را به دقت خوانده و صحیح ترین پاسخ را برای سوال های ۱ تا ۴ انتخاب کنید

به باور متخصصان، طراحی شهری حدود پنجاه سال پیش، به صورت حوزه‌های نسبتاً مستقل با هدف انتقاد به معماری مدرن در کشورهای فرا صنعتی شکل گرفت. از حدود یک دهه پس از آن، اولین متون مرتبط با این دانش به صورت ترجمه شده در متون علمی ایران وارد شد. [۱] از این دوران به بعد، کتابهای چندی توسط شهر سازان، طراحان شهری معماران تألیف، ترجمه و گردآوری شد. مقایسه متون طراحی شهری ایران با منابع متنوعی که در حوزه جهانی طراحی شهری انتشار یافته، نشان می‌دهد تألیف‌های صورت گرفته در ایران در جهت زایش علمی - به گونه‌ای که به عنوان مرجع طراحی شهری در مجامع علمی جهانی مورد استفاده قرار گیرند - نبوده است. لذا ابتدا وضعیت دانش طراحی شهری در ایران با تاکید بر مقایسه تحلیلی با متون جهانی در حوزه‌های نظری و علمی بررسی گردیده است. از این منظر زمان پیدایش هر یک از حوزه‌ها در ایران نیز مورد مداقه قرار گرفت. [۲] تعادل میان مباحث مختلف دانش در ایران سنجیده شد. بنابراین سعی بر این بوده است نقاط قوت و ضعف متون طراحی شهری در ایران سنجیده شود تا مقدمه‌ای برای پیشرفت دانش و یا بازنگری در جهتگیری موجود فراهم آید.

بررسی وضعیت و طبقه‌بندی متون جهانی طراحی شهری به طرق گوناگونی انجام شده، اما تاکنون چنین بررسی در مورد ایران صورت نگرفته است. [۳] ضرورت چنین مطالعاتی این است که با وجود گذشت چهار دهه از ورود این دانش به ایران که مدت زمان قابل توجهی برای مناسب سازی و تولید دانش بوده است، این دانش در وضعیت مطلوبی قرار ندارد و این به معنای وجود مسئله‌ای در ساختار تولید دانش است. احتمالاً اگر روند کنونی ادامه یابد، طراحی شهری ایران از زایش علمی مطلوبی باز میماند و با جهتگیری نادرست پژوهشها، کمبودها در حوزه‌های مختلف پررنگتر میشود. [۴] لذا این بحث، بدنه متون طراحی شهری در ایران و همچنین ضعفهای آن را به دانشجویان و دانشپژوهان برای انجام مطالعات و تحقیقات علمی معرفی کرده و راهکارهایی برای غلبه بر ضعفها ارائه نموده است.

۱- بر اساس متن، کدام مورد در خصوص طراحی شهری در ایران صحیح است؟

(۱) از منظر تولید دانش، به مرحله رشد و پویایی نرسیده است.

(۲) منبع الهام معماری مدرن در کشورهای فرا صنعتی بوده است.

(۳) علیرغم پیشرفت در حوزه علمی، در حوزه‌های نظری وضعیت مطلوبی ندارد.

(۴) در چند دهه گذشته، شاهد نوآوری‌های بوده است.

❑ پاسخ سایت ایران عرضه: گزینه ۱ ➡ با توجه به بند دوم سطر ۲ به بعد

۲- معنی واژه «مداقه» در پاراگراف اول کدام است؟

(۱) قبول (۲) نقد (۳) توجه (۴) مقایسه

۳- جمله زیر، در کدام یک از بخشهای متن که با شماره مشخص شده‌اند، قرار میگیرد؟

«به عبارتی دیگر، یکی از ضرورت‌های بحث، تعیین حوزه‌های مهم لحاظ نشده در ایران، در مقایسه با مهمترین منابع طراحی شهری دنیا است.»

(۴) [۴]

(۳) [۱]

(۲) [۲]

(۱) [۳]

۴- موضوع اصلی پاراگراف بعد از متن، کدام است؟

- (۱) بررسی تحلیلی متون طراحی شهری در ایران
- (۲) معرفی ضعف‌های موجود در منابع طراحی شهری دنیا
- (۳) تحقیقات انجام شده در حوزه طراحی شهری در ایران
- (۴) راهکارهایی برای افزایش تولید دانش در ایران

راهنمایی: برای پاسخگویی به سوالهای ۵ تا ۸ لازم است موقعیتی را که در هر سؤال مطرح شده، مورد تجزیه و تحلیل قرار دهید و سپس گزینه‌های را که فکر میکنید پاسخ مناسبتری برای آن سؤال است، انتخاب کنید. هر سوال را با دقت بخوانید و با توجه به واقعیت‌های مطرح شده در هر سوال و نتایج که بیان شده و بیان نشده ولی قابل استنتاج است، پاسخی را که صحیح تر به نظر میرسد، انتخاب کنید

۵- کار خیر آسانی که امروز می‌خواهیم پیشنهاد کنیم، تعریف کردن از کارهای دیگران و تایید کردن آنهاست. پس امروز سعی میکنیم که اگر کسی را میشناسیم که کار خیری کرده است یا اگر در خانه، همسر یا فرزندان کار خوبی انجام میدهند، از انجام آن کار، حتی اگر دقیق و عالی نبوده، تعریف کنیم و بگوییم که تا چه حد کارشان مؤثر است. کدام مورد، در صورتی که صحیح فرض شود، به بهترین وجه، توصیه مطرح شده در متن را تقویت میکند؟ (اولین آزمون فراگیر دستگاه‌های اجرایی مشترک با آموزش و پرورش - خرداد ۱۳۹۴) (مجرى سنجش)

- (۱) بسیاری از افراد، آنقدر درگیر مسائل شخصی خود هستند که از کارکرد اطرافیانشان غافل میمانند.
- (۲) تحقیقات نشان میدهد که افرادی که از دیگران تعریف میکنند، بیشتر زیردستان هستند و نه بالادستیها.
- (۳) تعریف کلامی از کار خوب دیگران، اگر با جایزه‌های خاص، مثلاً پاداش ملی همراه باشد، کارایی بیشتری در افزایش بهره‌وری افراد دارد.

(۴) آدمها نیاز به تأیید شدن دارند و این تأیید شدن از سوی دیگران، حال خوبی به آنها میدهد.

۶- اگر در حال حاضر، دانشجوی کارشناسی بیمه یا یکی از رشته‌های مرتبط با آن هستید یا تصمیم دارید وارد این رشته شوید، بد نیست کمی درباره بازار کار و آینده شغلی آن بدانید. یک کارشناس بیمه معمولاً در شرکتهای بیمه‌های دولتی یا خصوصی یا نمایندگی‌های آنها مشغول به کار میشود. بسیاری از کارهای کارشناس بیمه در داخل شرکت انجام میگردد، اما گاهی لازم است برای ارزیابی، شخصاً به محل مورد نظر خارج از شرکت مراجعه کند. کدام مورد، یک فرض مستتر در استدلال فوق است؟ (اولین آزمون فراگیر دستگاه‌های اجرایی مشترک با آموزش و پرورش - خرداد ۱۳۹۴) (مجرى سنجش)

(۱) کسانی که با توجه به علاقه خود، رشته مورد نظرشان را انتخاب کنند، در شغل آینده خود، موفقتر از بقیه خواهند بود.

۲) کسی در بازار کار موفق میشود که رشته تحصیلی خود را با توجه به علاقه و استعداد ذاتی خود انتخاب کند.

۳) یکی از مولفههای انتخاب رشته، باید با توجه به بازار و شرایط کاری آن باشد.

۴) رشته بیمه یا رشتههای مرتبط، در صورتی که با آگاهی کامل انتخاب شده باشند، ضمانت شغلی نیز به دنبال خود میآورند.

۷- اگر داشتید از پیاده روی رد میشدید و دیدید که گروهی، کنار خیابان، موسیقی زنده اجرا میکنند، صبر کنید بایستید و به

صدای سازشان گوش کنید. آنها برای شما میزنند .....

کدام مورد. به منطقیترین شکل، جای خالی در متن فوق را کامل میکند؟

۱) چون شما و آنها از یک جنس هستید

۲) ولی خود نیز این را نمیدانند

۳) و این کنسرتی، برای شما یک نفر است

۴) و به تعبیری ساعتها برای این کار تمرین کردهاند

۸- اصولاً چه ارتباطی میان رنج و هرروزینگی است؟ به نظر میرسد که رنج، استثنایی بر قاعده هر روزه است، پس رابطه میان

رنج و هرروزینگی، همان رابطه میان استثنا و قاعده است، اما برخلاف آنچه معمولاً میپنداریم، استثنا قاعده را نقض نمیکند،

بلکه آن را به نهایت خویش میرساند. استثنا حدّ قاعده است و حدّ هرچیز، حقیقت آن چیز است و اگر متن یک چیز در حدّش

نقض میشود، صرفاً به آن خاطر است که آن چیز در متن خویش، حامل تناقض است وگرنه حد کاری نکرده است، مگر تکرار

بیلکنت متن. کدام مورد، با نتیجهگیری متن مغایرت دارد؟

۱) حدّ هر چیز، متن آن چیز را نقض نمیکند.

۲) رنج، هویتی مستقل از هرروزینگی دارد.

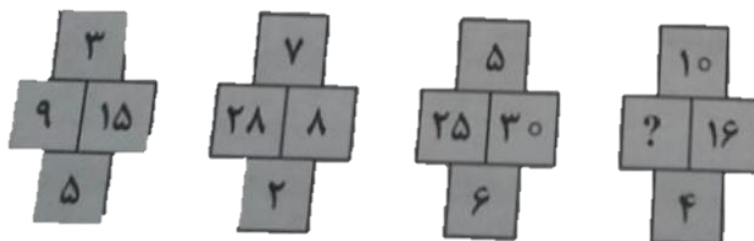
۳) برخی حدّ هر چیز را به غلط، استثنای قاعده میدانند.

۴) استثنا را نباید جزو لاینفک قاعده دانست.

راهنمایی: هر کدام از سوالهای ۹ تا ۱۴ را به دقت بخوانید و جواب هر سوال را انتخاب نمایید

۹- در هر کدام از شکلهای زیر، ارتباط خاص و مشترکی بین اعداد برقرار است. به جای علامات سؤال، کدام عدد باید قرار

بگیرد؟



۲۰ (۱)

۳۰ (۲)

۴۰ (۳)

۱۰ (۴)



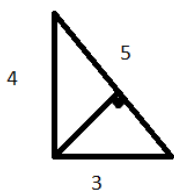
۱۰- اگر پرینتر A نسبت به پرینتر B، ۲۵ درصد سریعتر باشد و پرینتر A در هر دقیقه ۲۰ برگ پرینت بگیرد، پرینتر B، ۴۰۰ برگ را در چند دقیقه پرینت میگیرد؟

- (۱) ۱۶ (۲) ۲۰ (۳) ۲۵ (۴) ۱۵

۱۱- دو نوع چای به قیمت هر کیلوگرم ۱۵ و ۲۰ هزار تومان را به ترتیب به چه نسبتهایی مخلوط کنیم تا چای با قیمت ۱۶۵۰۰ تومان برای هر کیلوگرم حاصل شود؟

- (۱) ۳ به ۱ (۲) ۵ به ۲ (۳) ۵ به ۳ (۴) ۷ به ۳

۱۲- اگر نسبت طول اضلاع یک مثلث قائم‌الزاویه ۳ به ۴ باشد، نسبت طول ارتفاع وارد بر وتر به طول وتر این مثلث، کدام است؟



- (۱) ۱۳ به ۳۰

- (۲) ۱۲ به ۲۵

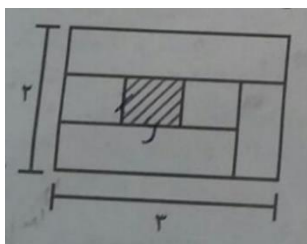
- (۳) ۱۲ به ۳۵

- (۴) ۱۳ به ۲۵

۱۳- مقداری جو و گندم به نسبت های ۵ و ۷ کاملاً مخلوط شده‌اند. پس از آنکه ۹ کیلوگرم از مخلوط را برداشته و به جای آن به همان مقدار جو بریزیم، نسبت جو به گندم ۹ به ۷ میشود. نهایتاً این مخلوط چند کیلوگرم گندم خواهد داشت؟

- (۱) ۱۰۳۵ (۲) ۱۸۹ (۳) ۳۲۴ (۴) ۱۳۵

۱۴- نسبت طول به عرض مستطیل زیر که با خطوطی به ۶ قسمت با مساحت های مساوی تقسیم شده است، ۲ به ۳ میباشد. نسبت طول به عرض مستطیل هاشور خورده، کدام است؟



- (۱) ۱۶ به ۲۵

- (۲) ۴ به ۹

- (۳) ۱ به ۴

- (۴) ۹ به ۱۶

راهنمایی: با توجه به اطلاعات و نمودارهای زیر، به سوال ۱۵ پاسخ دهید.

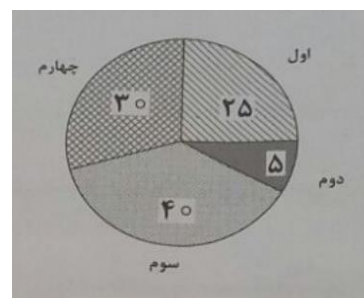
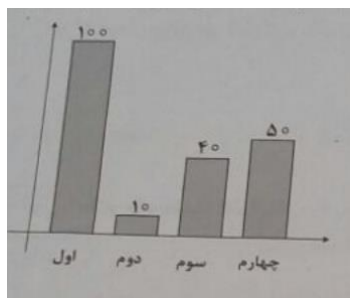
در یک روز برفی، تعدادی از دانش‌آموزان دبستان یک روستا که دارای چهار کلاس اول، دوم، سوم و چهارم است، غیبت میکنند. نمودار سمت چپ، درصد تعداد غایبین هر کلاس نسبت به کل تعداد دانش آموزان همان کلاس و نمودار سمت راست، درصد تعداد غایبین هر کلاس نسبت به کل تعداد غایبین آن دبستان را نشان میدهد.

درصد تعداد غایبین هر کلاس نسبت

درصد تعداد غایبین هر کلاس

به کل دانش آموزان همان کلاس

به کل تعداد غایبین دبستان



۱۵- نسبت تعداد حاضرین کلاس دوم به حاضرین کلاس چهارم، کدام است؟

- (۱) ۳ به ۱      (۲) ۳ به ۲      (۳) ۹ به ۵      (۴) ۲ به ۱

ایران عرضه  
فروشگاه کالاهای دنیای مدرن  
IRANARZE.IR

## ❖ فصل هفتم: سوالات فناوری اطلاعات

۱- کدام مورد، می تواند یک کامپیوتر را آلوده به ویروس کند؟

(۱) اضافه کردن امضای الکترونیکی به یک پیام

(۲) باز کردن فایل الحاقی به یک پیام الکترونیکی

(۳) انتقال یک پیام الکترونیکی باز نشده به یک پوشه مشخص

(۴) حذف یک پیام الکترونیکی باز نشده

❑ پاسخ سایت ایران عرضه: گزینه ۲ ➡ باز کردن یک فایل الحاقی در کنار نامه‌ی الکترونیکی می‌تواند سیستم را آلوده به ویروس نماید.

۲- بخشی از یک وب سایت داخلی یک شرکت که برای تعدادی از مشتریان قابل دسترسی است، چه نامیده می شود.

Network (۱) Intranet (۲) Internet (۳) Extranet (۴)

۳- فرض کنید در محل کارتان، کامپیوترها به یکدیگر متصل شده اند، به طوری که کارمندان می توانند فایل ها و پرینتر را با یکدیگر به اشتراک بگذارند. در اتصال کامپیوترها به یکدیگر، از کدام نوع شبکه استفاده ده است؟

ISDN (۱) LAN (۲) TCP/IP (۳) WAN (۴)

۴- در محیط Windows، کدام مورد جهت بزرگ کردن اندازه یک پنجره مناسب است، به طوری که تمام صفحه نمایش را در بر گیرد؟



(۴)



(۳)



(۲)



(۱)

۵- اگر بخواهیم بدون استفاده از ماوس، اندازه یک پنجره را تغییر داده و یا آن را حرکت دهید، از کدام مورد استفاده می کنید؟

Alt + Space (۱) Ctrl + Shift (۲) Shift + Alt (۳) کلید پنجره روی صفحه کلید (۴)

۶- ترکیب کلیدهای Ctrl و Y، معادل کدام عمل است؟

cut (۱) Undo (۲) print (۳) Redo (۴)

۷- شکل روبرو، کدام ابزار را نشان می دهد؟



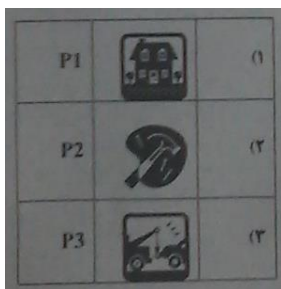
Text (۱)

Paragraph (۲)

Header and Footer (۳)

Page Setup (۴)

۸- جدول زیر را در نظر بگیرید، اگر بخواهیم محتویات هر کدام از خانه های جدول وسط خانه قرار بگیرد از کدام ابزار استفاده



می کنید؟

Auto Fit (۱)

Justify (۲)

Center (۳)

Cell Alignment (۴)

۹- در یک کاربرگ از یک فایل Excel، عمل فیلتر کردن بر اساس کدام داده ها، قابل انجام است؟

(۱) هر ستون (۲) هر سطر

(۳) هر ستون با هر سطر (۴) فقط سطر اول

۱۰- فرض کنید در یک کاربرگ از یک فایل Excel، ۳۵ ستون دارید، کدام مورد به خانه ای که در سطر ۶ و ستون ۲۹ این

کاربرگ قرار دارد، اشاره می کند؟

(۱) C2(6) (۲) AC (6) (۳) F 29 (۴) 29 F

۱۱- کدام مورد (موارد)، به عنوان منبع داده برای تهیه گزارش در محیط Access استفاده می شود؟

Table . I Query . II Form . III Report. IV

(۱) I و II (۲) I (۳) II و III (۴) III و IV

۱۲- شکل زیر، در نسخه های جدید Power Point (۲۰۰۷ به بعد) چه کاربردی دارد؟



(۱) ایجاد یک نمایش دلخواه از چند اسلاید

(۲) حرکت بین بخش های مختلف یک اسلاید

(۳) نحوه ظاهر شدن یک اسلاید در حین نمایش

(۴) تعیین ظاهر شدن یک شکل در یک اسلاید

۱۳- فرض کنید داخل یک اسلاید از یک فایل Power Point، برای یک نوشته از ابزار *Exit → fade* استفاده کرده اید. کدام

یک از موارد زیر، حاصل خواهد شد؟

۱- در حین نمایش این اسلاید، نوشته مورد نظر به تدریج ظاهر خواهد شد .

۲) در حین نمایش این اسلاید، نوشته مورد نظر به تدریج محو خواهد شد .

۳) نوشته مورد نظر به تدریج محو و سپس ظاهر خواهد شد .

(۴) نوشته مورد نظر به تدریج ظاهر و سپس محو خواهد شد .

۱۴- ابزار Book mark برای صفحه های وب، به کدام منظور استفاده می شود؟

(۱) اطمینان از این که این صفحات در آینده قابل دسترسی هستند

(۲) اطمینان از این که اطلاعات روی صفحه تغییر نمی کنند

(۳) ذخیره سازی صفحات مورد نظر روی کامپیوتر

(۴) دسترسی آسان به صفحات مورد نظر در روزهای آینده

۱۵- اگر بخواهیم یک صفحه وب به حالت تمام صفحه در آید، از کدام کلید کمک می گیرید؟

F 2 (۴)

F 5 (۳)

F 9 (۲)

F 11 (۱)



## ❖ فصل هشتم: سوالات شناخت تامین اجتماعی

۱- کدام گزینه از اهداف تشکیل بیمه تامین اجتماعی نمی باشد؟ (iranarze.ir)

(۱) تعمیم و گسترش انواع بیمه های اجتماعی

(۲) اجراء انواع بیمه های اجتماعی

(۳) استقرار نظام هماهنگ و مناسب با برنامه های تامین اجتماعی

(۴) کسب درآمد و تامین بخشی از بودجه دولت

❑ پاسخ سایت ایران عرضه: گزینه ۴ ← سازمان تامین اجتماعی به منظور اجراء، تعمیم و گسترش انواع بیمه های اجتماعی و استقرار نظام هماهنگ و مناسب با برنامه های تامین اجتماعی تشکیل و مشمولین آن با پرداخت حق بیمه تحت ضوابط و مقررات مندرج در قانون از تسهیلات کوتاه مدت و بلند مدت آن بهره مند می گردند.

۲- کدامیک از افراد ذیل بر اساس ماده ۴ قانون تامین اجتماعی از مشمولین قانون تامین اجتماعی نمی باشد؟

(۱) افرادی که به هر عنوان در مقابل دریافت مزد یا حقوق کار میکنند

(۲) مشمولین قانون استخدام نیروهای افزارمندان

(۳) دریافت کننده گان مستمری های بازنشستگی، از کارافتادگی و فوت

(۴) گزینه ۲ و ۳

۳- بیمه شده از نظر قانون تامین اجتماعی چه کسی است؟

(۱) فردی است که رأساً مشمول مقررات قانون تامین اجتماعی بوده.

(۲) فردی که با پرداخت مبالغی به عنوان حق بیمه حق استفاده از مزایای مقرر در این قانون را دارد.

(۳) شخص یا اشخاصی هستند که به تبع بیمه شده اصلی از مزایای موضوع قانون استفاده میکنند.

(۴) ۱ و ۲

۴- طبق قانون چند درصد بیمه از حقوق و مزایای مشمول کسر حق بیمه کارفرما به بیمه شده از سوی کارفرما به بیمه از

سازمان پرداخت می گردد؟

(۱) ۲۵% (۲) ۲۷% (۳) ۳۵% (۴) ۲۰%

۵- غرامت دستمزد: به وجوهی اطلاق می شود که ..... .

(۱) به منظور اعاده سلامت یا برای جبران نقص جسمانی پرداخت می شود.

(۲) در ایام بارداری به بیمه شده پرداخت می شود.

(۳) هنگام عدم توانایی موقت فرد شاغل به کار و عدم دریافت مزد یا حقوق پرداخت می شود.

(۴) ۲ و ۳



۶- ..... عبارت است از وجهی که طبق شرایط مقرر در این قانون به منظور جبران قطع تمام یا قسمتی از درآمد او و در صورت فوت او برای تامین بازماندگان وی به آنان پرداخت می شود.

- (۱) کمک عائله مندی  
(۲) مستمری  
(۳) از کار افتادگی جزئی  
(۴) از کار افتادگی کلی

۷- کدام گزینه تعریف صحیحی از برون سپاری است؟

- (۱) نظارت بر عدم اشتغال مقرر بگيران بیکاری  
(۲) کاهش و تقلیل امور تصدی گری در عرصه ارائه خدمات و احاله آن به بخش خصوصی  
(۳) چاپ، تعویض و صدور دفاتر درمانی و تحویل آن  
(۴) انجام بخشی از فرآیند «تشکیل پرونده مطالبات کارگاهی» توسط کار گزاری های رسمی

۸- کدام گزینه از اقلام مشمول کسر حق بیمه است؟

- (۱) پاداش نهضت سوادآموزی  
(۲) حق اولاد  
(۳) مستمری های بازنشستگی، از کارافتادگی و فوت  
(۴) باز خرید ایام مرخصی  
۹- دولت به منظور کمک به صندوق تأمین اجتماعی ..... به عنوان کمک به سازمان پرداخت می نماید.

- (۱) ۳% (۲) ۵% (۳) ۷% (۴) ۱۰%

۱۰- چاپ، تعویض و صدور دفاتر درمانی و تحویل آن از وظایف کدامیک از گزینه های زیر است؟

- (۱) شرکت های بیمه  
(۲) کار گزاری های بیمه  
(۳) کارمندان بیمه مرکزی  
(۴) بیمه شده گان

۱۱- حق بیمه در مورد بیمه شده گانی که تمام یا قسمتی از مزد یا حقوق آنان توسط مشتری یا مراجعین تأمین می شود چگونه محاسبه می شود (منبع ایران عرضه)

- (۱) درآمد تقریبی هر طبقه یا حرفه مقطوعاً به پیشنهاد هیأت مدیره و تصویب شورای عالی تعیین و مأخذ دریافت حق بیمه قرار می گیرد.  
(۲) درآمد تقریبی هر طبقه یا حرفه مقطوعاً به پیشنهاد شورای عالی و تصویب هیأت مدیره تعیین و مأخذ دریافت حق بیمه قرار می گیرد.  
(۳) درآمد تقریبی هر طبقه یا حرفه به صورت علی الراس محاسبه شده و مأخذ دریافت حق بیمه قرار می گیرد.  
(۴) قبیله به مأخذ کل درآمد ماهانه آنان احتساب و دریافت میگردد.

۱۲- کارفرما مکلف است حق بیمه هر ماه را حداکثر تا چه زمانی به سازمان پرداخت نماید؟

(۲) آخرین روز ماه بعد

(۱) آخرین روز همان ماه

(۴) اولین روز ماه بعد

(۳) اولین روز همان ماه

۱۳- جرائم تأخیر پرداخت حق بیمه معادل چند درصد تمام یا کسر بدهی قطعی پرداخت نشده به ازاء هر ماه تأخیر می باشد؟

(۴) ۲۰%

(۳) ۱۰%

(۲) ۵%

(۱) ۲%

۱۴- در کدام نوع قرارداد ها تمام یا قسمتی از بودجه عملیات از محل طرح تملک دارایی سرمایه ای دولت (اعتبارات ملی و

تملك دارایی های سرمایه ای، منطقه ای، استانی) تأمین می شود؟

(۱) قراردادهای مشمول ضوابط طرحهای عمرانی (۲) موارد خاص قراردادهای غیر عمرانی

(۴) ۲ و ۳

(۳) قراردادهای غیر عمرانی

۱۵- حق بیمه کلیه پیمان هائی که به صورت دستمزدی-خدماتی و غیر مکانیکی انجام میگیرد بر اساس کدام مآخذ محاسبه

می گردد؟

(۱) به مأخذ ۲۱ درصد ناخالص کارکرد به اضافه ۹/۱ آن به عنوان بیمه بیکاری

(۲) به مأخذ هفت درصد ناخالص کارکرد باضافه ۱/۹ آن به عنوان حق بیمه بیکاری میباشد

(۳) مشمول کسر حق بیمه نمیشد

(۴) به مأخذ ۱۶ درصد ناخالص کارکرد به اضافه ۹/۱ آن به عنوان بیمه بیکاری

## ❖ فصل نهم: سوالات قوانین و مقررات اداری و قانون اساسی

### ◀ بخش اول: قوانین و مقررات اداری

۱- کدام گزینه به واحد سازمانی مشخصی نسبت داده می شود که تحقق یک یا چند هدف از اهداف دولت را برعهده دارد و

به موجب قانون ایجاد شده یا می شود و توسط وزیر اداره می گردد؟

(۱) موسسه یا نهاد عمومی غیردولتی (۲) موسسه دولتی

(۳) وزارتخانه (۴) شرکت دولتی

❑ پاسخ سایت ایران عرضه: گزینه ۳ ◀ وزارتخانه واحد سازمانی مشخصی است که تحقق یک یا چند هدف از اهداف دولت

را برعهده دارد و به موجب قانون ایجاد شده یا می شود و توسط وزیر اداره می گردد.

۲- ..... واحد سازمانی مشخصی است که به موجب قانون ایجاد شده یا می شود و با داشتن استقلال حقوقی، بخشی از

وظایف و اموری را که بر عهده یکی از قوای سه گانه و سایر مراجع قانونی می باشد انجام می دهد.

(۱) موسسه یا نهاد عمومی غیردولتی (۲) موسسه دولتی

(۳) وزارتخانه (۴) شرکت دولتی

۳- ..... بنگاه اقتصادی است که به موجب قانون برای انجام قسمتی از تصدی های دولت به موجب سیاست های کلی

اصل چهل و چهارم (۴۴) قانون اساسی تعیین می گردد، ابلاغیه آن از سوی مقام معظم رهبری صادر گردیده و جزء وظایف

دولت محسوب می گردد. (منبع ایران عرضه)

(۱) موسسه یا نهاد عمومی غیردولتی (۲) موسسه دولتی

(۳) وزارتخانه (۴) شرکت دولتی

۴- تشکیل شرکت های دولتی تحت هر یک از عناوین فوق الذکر صرفاً با تصویب ..... مجاز است.

(۱) مجلس شورای اسلامی (۲) وزارتخانه

(۳) مقام معظم رهبری (۴) اداره ثبت شرکت ها

۵- تبدیل شرکت هایی که سهام شرکتهای دولتی در آنها کمتر از پنجاه درصد (۵۰٪) است با افزایش سرمایه به شرکت دولتی

.....

(۱) ممنوع است. (۲) بلامانع است.

(۳) با اجازه ثبت شرکت ها مانعی ندارد. (۴) مستلزم اخذ مجوز نیست.

## بخش دوم: قانون اساسی

۱- حکومت ایران جمهوری اسلامی است که ملت ایران بر اساس اعتقاد دیرینه اش به..... در پی انقلاب اسلامی پیروزمند

خود در همه پرسى..... با اکثریت ..... کسانی که حق رای داشتند تصویب شد؟

(۱) حکومت حق و عدل قرآن-دهم و یازدهم فروردین ماه ۱۳۵۸-۹۸/۲ درصد

(۲) حکومت عدل و داد قرآن-دهم و یازدهم فروردین ماه ۱۳۵۷-۹۸/۲ درصد

(۳) حکومت اسلامی -دهم و یازدهم فروردین ماه ۱۳۵۸-۹۸/۲ درصد

(۴) حکومت اسلامی-دهم و یازدهم فروردین ۱۳۵۹-۹۶/۴ درصد

❑ پاسخ سایت ایران عرضه: گزینه ۱ ← حکومت ایران جمهوری اسلامی است که ملت ایران بر اساس اعتقاد دیرینه اش به

حکومت حق و عدل قرآن در پی انقلاب اسلامی پیروزمند خود در همه پرسى دهم و یازدهم فروردین ماه ۱۳۵۸ با اکثریت

۹۸/۲ درصد کسانی که حق رای داشتند تصویب شد

۲- جمهوری اسلامی ایران نظامی است که بر پایه ایمان به کدام یک از موارد زیر شکل گرفته است؟

(۱) خدای یکتا و اختصاص حاکمیت و تشریح به او و لزوم تصمیم در برابر امر او

(۲) وحی الهی به نقش بنیادی آن در بنیان قوانین

(۳) کرامت و ارزش والای انسان و آزادی توأم با مسئولیت او

(۴) همه موارد

۳- طبق قانون اساسی کرامت و ارزش والای انسان و آزادی توأم با مسئولیت او در برابر خدا از کدام یک از راههای زیر کسب

می شود؟ (منبع ایران عرضه)

(۱) اجتهاد مستمر فقهای جامع الشرایط بر اساس کتاب و سنت معصومین

(۲) استفاده از علوم و فنون و تجارب پیشرفته بشری

(۳) نفی هرگونه ستمگری و ستم کشی و سلطه گری و سلطه پذیری

(۴) همه موارد

۴- ..... برای همه در تمام سطوح و تسهیل و تعلیم آموزش عالی از وظایف دولت طبق اصل سوم قانون اساسی می باشد

(۱) آموزش و پرورش و تربیت بدنی رایگان (۲) خدمات بیمه درمانی

(۳) تامین رفاه (۴) گزینه ۱ و ۲

۵- طبق اصل سوم قانون اساسی دولت موظف به ایجاد محیط مساعد برای رشد..... بر اساس ایمان و تقوا و مبارزه با کلیه

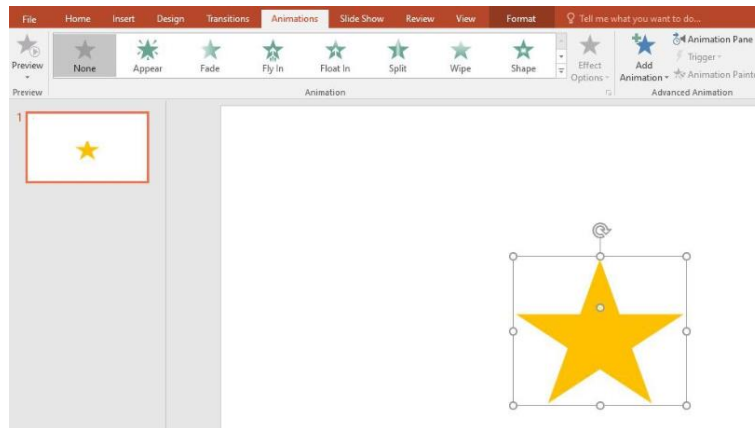
مظاهر..... است؟

(۱) کرامت و ارزش والای انسانی- فساد و تباهی (۲) آزادی های سیاسی- فقر و محرومیت

(۳) رشد فرهنگی- خودکامگی و انحصارطلبی (۴) فضایل اخلاقی- فساد و تباهی

## ❖ فصل دهم: سوالات آزمون استخدامی سازمان تامین اجتماعی سال ۱۴۰۱

با توجه به تصویر به ۳ سوال بعدی پاسخ دهید.



۱- در تصویر نشان داده شده در powerpoint, چند اسلاید وجود دارد؟

(۱) یک (۲) دو (۳) مشخص نیست (۴) سه

❑ پاسخ سایت ایران عرضه: گزینه ۱ ← تعداد اسلاید های یک فایل پاور پوینت در حالت نمایش نرمال در سمت چپ آن در بخش preview قابل مشاهده میباشد.

۲- اسلاید مورد نظر دارای چه نوع Animation است؟

(۱) None (۲) Exit (۳) Fade (۴) Emphasis

۳- اگر ستاره موجود در اسلاید بچرخانیم چه اتفاقی در orientation می افتد؟

(۱) در قسمت orientation به صورت portrait عمودی بوده تبدیل به افقی landscape می شود  
(۲) در قسمت orientation به صورت افقی می شود.  
(۳) هیچ تغییری در orientation رخ نمیدهد.

(۴) در قسمت orientation به صورت افقی landscape بوده و تبدیل به portrait عمودی می شود

۴- کدام آدرس Url صحیح می باشد؟ (iranarze)

(۱) https://www.google.com/ (۲) http:// google.com

(۳) https:// google.com/ (۴) https://www.google.com/

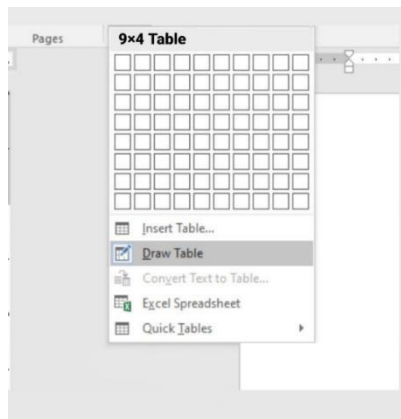
۵- در نرم افزار outlook کدام گزینه قابل دسترسی نیست؟

(۱) Mail (۲) Calendar (۳) Movie (۴) Tasks

۶- حاصل تابع (ABS (A) در SQRT Excel چه می باشد؟ (مقدار A = -16)

(۱) ۴ (۲) ۲۵۶ (۳) #Num (۴) ۱۶

با توجه به تصویر به ۳ سوال بعدی پاسخ دهید.



۷- تصویر بالا مربوط به چیست؟

(۱) درج جدول موجود (۲) درج جدول جدید (۳) درج سایز جدول (۴) درج عنوان جدول

۸- کدام گزینه با ابزار Draw Table امکان پذیر نیست؟

(۱) می توان سلول به جدول اضافه کرد (۲) می توان خطوط مورب اضافه کرد  
(۳) می توان برای جدول حاشیه ایجاد کرد (۴) می توان از قبل تعداد سلول ها را وارد کرد یا مشخص کرد  
۹- با ایجاد جدول کدام سربرگ جدید ایجاد می شود؟

(۱) Chart tools (۲) Table tools (۳) Insert tools (۴) Draw tools

## معارف اسلامی

۱۰- آنگاه که افعال فاعل در غایت استواری و کمال و به دور از هرگونه نقصانی مطرح می شوند آن فاعل موصوف به کدام وصف است؟

(۱) قدیر (۲) حکیم (۳) عادل (۴) علیم

۱۱- آیات «و لا نكلف نفسا الا وسعها» و «فلا تظلم نفس شيئا» به ترتیب شامل کدام معنای عدل است؟

(۱) تشریعی - جزایی (۲) تشریعی - تشریعی

(۳) جزایی - تشریعی (۴) جزایی - جزایی

۱۲- اگر بگوییم جهان معلول است و هر معلولی نیازمند علت است بنابراین جهان نیازمند علتی است که ان علت یا خداست یا به خدا می رسد، به کدام موضوع اشاره دارد؟ ایران عرضه

(۱) تقریر برهان هدمندی (۲) برهان نظم از موارد جزئی

(۳) برهان هماهنگی کل عالم (۴) تقریر برهان علی

۱۳- صفاتی که از ارتباط ذات الهی با مخلوقات انتزاع می شوند کدام اند؟

(۱) صفات فعلی مثل خالق بودن (۲) صفات فعلی مثل قادر بودن

(۳) صفات ذاتی مثل خالق بودن (۴) صفات ذاتی مثل قادر بودن



#### ۱۴- کدام مورد تبیین مناسبی از حکمت عملی ارائه نموده است؟

- (۱) کسب علم حصولی به مفاهیم ذهنی انسان (۲) آگاهی انسان به ذات خود و قوای ادراکی  
(۳) علم به تکالیف و وظایف انسان (۴) بیدار کردن و برانگیختن گنجینه های فطری آدمی

#### ۱۵- با توجه به آیه ی شریفه ی « ثم سواه نفخ فیه روحه » مقصود کلمه ی « سواه » کدام است؟

- (۱) انسان دو ساحتی است و نیمه ی برتر ان روح است.  
(۲) خلقت جسمانی و پردازش آفرینش ظاهری انسان  
(۳) حقیقت حیات انسان روح اوست که باقی است.  
(۴) خلقت روح و دمیدن آن در جسم

### ◀ ادبیات فارسی

#### ۱۶- معنی «گان» در کدام گزینه متفاوت است؟

- (۱) مهرگان (۲) بردگان (۳) گویندگان (۴) مژگان

#### ۱۷- نگارش کدام عبارت صحیح است؟

- (۱) چشمانش را باز و به من خیره شد (۲) چشمانش را باز و فوراً بست  
(۳) چشمانش را باز و به من نگریست (۴) چشمانش را باز و به من نگاه کرد

#### ۱۸- کدام عبارت از نظر نگارشی صحیح است؟

- (۱) هوشنگ ابتهاج «۱.۵.سایه» مقاله ارزشمندی دارد  
(۲) جواب داد که: مرا قضای آسمانی در این ورطه کشید  
(۳) سعدی -رحمه الله علیه- در شیراز مدفون است  
(۴) جناب استاد، درسی که از شما فرا گرفتم، بسیار آموزنده بود

#### ۱۹- بیت زیر چند جمله دارد؟

«حیلت رها کن عاشقا دیوانه شو دیوانه شو و اندر دل آتش درا پروانه شو پروانه شو»

- (۱) ۵ (۲) ۷ (۳) ۸ (۴) ۴

#### ۲۰- در بیت زیر علت خود بینی چیست؟

« نبیند مدعی جز خویشتن خویش را که دارد پرده ی پندار در پیش »

- (۱) بی توجهی به عواقب کارها (۲) پیروی از لذات زندگی  
(۳) حجاب گمان باطل (۴) احساس بی نیازی نسبت به دیگران

#### ۲۱- کدام سروده فاقد آرایه ی پارادوکس است؟ {ایران عرضه}

- (۱) هم دوش روز و شبی، هم پرده ی سحری (۲) آواره ی حضری، فرسوده ی سفری

۳) پیدای نادره ای، پنهان جلوه گری ۴) نوباوه ی سخنی، خاموش و نغمه گری

۲۲- کدام مورد در قالب رمان نوشته نشده است؟

۱) زن زیادی ۲) همسایه ها

۳) سووشون ۴) تنگسیر

۲۳- مفهوم کدام بیت با سایر ابیات متفاوت است؟

۱) به ترک خویش بگو تا به کوی یار رسی که کارهای چنین با خطر تواند بود.

۲) ز تنگ چشمی در خاطر تو کی گذرد که هیچ چیز به از سیم و زر تواند بود.

۳) وصال دوست طلب می کنی بلاکش باش که خار و گل همه با یکدگر تواند بود.

۴) کسی به گردن مقصود دست حلقه کند که پیش تیر بلا سپر تواند بود.

۲۴- معنی هر یک از واژه های رو به رو به ترتیب کدام است؟ « مهنّا - خریف - رجا »

۱) شاداب - پاییزی - رضایت ۲) گوارا - پاییز - امید

۳) گوارا - بهار - رضایت ۴) شاداب - بهار - امیدواری

۲۵- معنی کدام واژه نادرست است؟

۱) طالح: گنهکار ۲) حشو: زاید ۳) روایح: روح ها ۴) حصین: استوار

۲۶- در متن زیر املای کدام واژه نادرست است؟

«طنز پرداز، دیدگاه های خود را غیر مستقیم، مطایبه آمیز و کنایه وار، اما موثر و گیرا بیان می کند. او این زبان هنرمندانه را برای خلق اندیشه های ظریف یا نظیره گویی به کار می برد و با آشنا زدایی و هنجار شکنی مطلوب و متبوع، سخنی دیگر می آفریند.»

۱) مطایبه آمیز ۲) نظیره گویی ۳) هنجار شکنی ۴) متبوع

## ◀ اطلاعات عمومی

۲۷- جالینوس عرب لقب کدام یک از مشاهیر ایران است؟

۱) نصیر الدین طوسی ۲) ابوریحان بیرونی

۳) ابن سینا ۴) محمد زکریای رازی

۲۸- مقر دائمی دبیر سازمان همکاری اقتصادی (اگو) پایتخت کدام کشور است؟

۱) آذربایجان ۲) پاکستان ۳) ایران ۴) ترکیه

## ◀ ریاضی و آمار مقدماتی

۲۹- اگر A و B دو مجموعه ناتهی از مجموعه مرجع M باشند، مجموعه  $f(B'-A)$  اشتراکش با B با کدام مجموعه برابر است؟

(۱) تهی M (۲) B (۳) A (۴)

۳۰- اگر دو خط  $ax - 3y = -6$  و  $by - x = 4$  همدیگر را در نقطه (2,2) قطع کنند، مقدار  $a+b$  کدام است؟

(۱) ۳ (۲) ۴ (۳) ۹ (۴) ۲

۳۱- ۴ پرستار و ۳ پزشک به چند طریق میتوانند در یک ردیف بنشینند، به طوری که هیچ دو پرستاری کنار هم قرار نداشته باشند؟


(۱) ۷۲ (۲) ۳۶ (۳) ۱۲ (۴) ۱۴۴

۳۲- متغیر گروه خونی اهداکنندگان در یک مرکز اهدای خون، چه نوع متغیری است؟ (متعلق به سایت ایران عرضه)

(۱) کیفی ترتیبی (۲) کمی گسسته (۳) کمی پیوسته (۴) کیفی اسمی

۳۳- برای تعدادی داده آماری، انحراف معیار و مجموع مربعات به ترتیب  $\sqrt{2}$  و ۷۵۶ است. اگر میانگین برابر ۴ باشد، تعداد داده ها کدام است؟

(۱) ۸۴ (۲) ۶۳ (۳) ۴۲ (۴) ۱۲۶



## ❖ فصل یازدهم: سوالات آزمون استخدامی سازمان تامین اجتماعی فروردین سال

۱۴۰۳

## ◀ فناوری اطلاعات مهارت های هفت گانه (ICDL)

۱- کدام یک از ترکیب کلیدهای زیر، اولین کلمه بعد از مکان نما را در نرم افزار word پاک می کند؟

Ctrl + Shift + Back Space (۲)

Ctrl + Shift + Del (۱)

Ctrl + Back Space (۴)

Ctrl + Del (۳)

❑ پاسخ سایت ایران عرضه: گزینه ۳ ➡ در اکثر نرم افزار های واژه پرداز، کلید Backspace برای پاک کردن قبل از مکان نما و کلید Delete برای پاک کردن مواردی که بعد از مکان نما هستند به کار میرود، همچنین برای پیمایش کلمه به کلمه در نرم افزار ورد میتوان از کلید Ctrl استفاده کرد. لذا برای پاک کردن کلمه ای که بعد از مکان نما قرار دارد از کلید ترکیبی Ctrl + DEL استفاده میکنیم.

۲- ترکیب کلیدهای Ctrl + y یا Redo چه عملی را در نرم افزار word انجام می دهد؟ (iranarze)

(۱) باز گرداندن آخرین عملیات لغو شده (۲) لغو آخرین عملیات انجام شده

(۳) Paste کردن اطلاعات کپی گرفته شده (۴) کپی گرفتن از بخش انتخاب شده متن

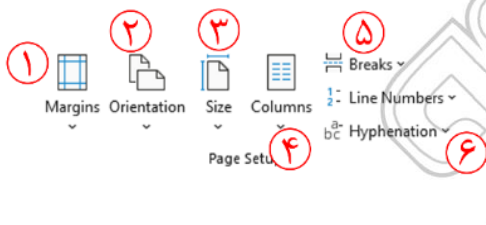
۳- در نرم افزار word، برای تنظیم حاشیه های یک صفحه، از کدام بخش رو به رو استفاده میشود؟

(۱) بخش ۱

(۲) بخش ۳

(۳) بخش ۴

(۴) بخش ۶



۴- گزینه Save As در منوی نرم افزار word چه کاری انجام می دهد؟

(۱) ذخیره اتوماتیک فایل

(۲) ذخیره کردن فایلی که تاکنون روی حافظه سیستم ذخیره نشده است

(۳) ذخیره کردن فایلی که باز است با نام دیگر روی حافظه سیستم

(۴) باز کردن فایل مورد نظر در word

۵- برای انتخاب متوالی آیکن ها در ویندوز، هنگام کلیک کردن چه کلیدی را پایین نگه میداریم؟

Tab (۴)

Shift (۳)

Ctrl (۲)

Alt (۱)

۶- بخش freeze Panes در نرم افزار excel چه کاری را انجام می دهد؟

(۱) ثابت نگه داشتن طول یا عرض ستون ها یا ردیف های انتخاب شده

۲) ثابت نگه داشتن محتویات ستون ها یا ردیف های انتخاب شده

۳) ثابت نگه داشتن نمایش ستون ها یا ردیف های انتخاب شده با پیمایش طولی و عرضی در فایل اکسل

۴) ثابت نگه داشتن نوع اطلاعات ثبت شده در سلول

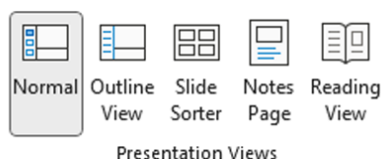
۷- اگر در نرم افزار excel، مکان نما در سلولی با آدرس C12 قرار داشته باشد، با زدن دکمه های Ctrl + Home مکان نما به

کدام سلول زیر منتقل می شود؟

Al (۱) C1 (۲) A12 (۳) (۴) اولین سلول دارای محتوا در ستون C

۸- در تصویر رو به رو، نحوه نمایش یک فایل پاورپوینت در منوی view آمده است. کدام گزینه برای جا به جایی و زمان بندی

اسلایدها استفاده می شود؟



Normal (۱)

Outline view (۲)

slide sorter (۳)

notes page (۴)

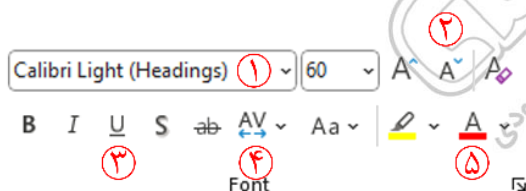
۹- کلیدهای ترکیبی Ctrl + M در پاورپوینت چه عملی را انجام می دهد؟

(۱) ایجاد اسلاید جدید (۲) کپی ساختن از اسلاید انتخاب شده

(۳) ایجاد یک سند جدید پاورپوینت (۴) شروع نمایش اسلایدهای پاورپوینت

۱۰- تصویر رو به رو تنظیمات قلم را در نرم افزار power point نشان می دهد. اعمال زیر به ترتیب توسط کدام بخش نمایش

داده شده در تصویر، انجام می شود؟ «کوچک کردن اندازه قلم تغییر رنگ رقم فاصله اندازی بین کاراکترها»



(۱) بخش های ۱ و ۴ و ۲

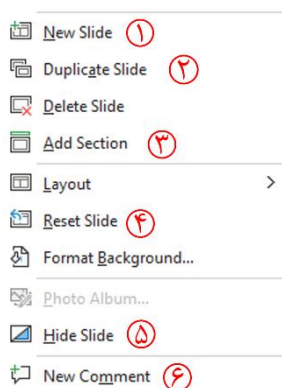
(۲) بخش های ۲ و ۴ و ۵

(۳) بخش های ۱ و ۳ و ۵

(۴) بخش های ۲ و ۳ و ۱

۱۱- اگر در نرم افزار power point، روی یک اسلاید با دکمه راست ماوس کلیک کنیم، منوی روبه رو نمایش داده می شود،

کدام گزینه اسلایدی مانند اسلاید انتخاب شده را به فایل ها اضافه خواهد کرد؟ ایران عرضه



(۱) گزینه ۱

(۲) گزینه ۲

(۳) گزینه ۴

(۴) گزینه ۵

۱۲- اصطلاح attachment در هنگام کار کردن با سایت های مربوط به پست الکترونیک، به چه معناست؟

- (۱) پاسخ دادن به ایمیل های دریافت شده (۲) پیش نویس ایمیلی هایی که قرار است ارسال شود (۳) ضمیمه کردن فایل به ایمیل (۴) ارسال یک ایمیل به صورت هم زمان به چند نفر

۱۳- کدام یک از گزینه های زیر، یک مرورگر اینترنتی است؟

- (۱) photoshop (۲) Microsoft office (۳) Microsoft edge (۴) hyperlink

۱۴- home page در مرورگرهای اینترنتی چیست؟

- (۱) صفحه سایت اصلی تولید کننده مرورگر (۲) اولین صفحه ای که کاربر در مرورگر آن را مشاهده کرده است (۳) اولین صفحه ای که هر وقت مرورگر فعال می شود، نمایش داده می شود (۴) صفحه اصلی سایت گوگل

۱۵- پیش فرض نام فایل در برنامه اکسس چیست؟

- (۱) Document (۲) Book (۳) Db1 (۴) هیچ کدام

۱۶- وقتی در نرم افزار ورد تصویری را انتخاب کرده ایم با کدام گزینه می توانیم بخشی از آن تصویر را برش بزنیم؟

- (۱) Size (۲) Crop (۳) Color (۴) Corrections

۱۷- در نرم افزار اکسل، فرمول رو به رو چه عملی را انجام می دهد؟

SUM (A1:C5)

- (۱) مجموع دو سلول A1 و C5

- (۲) میانگین دو سلول A1 و C5

- (۳) مجموع سلول های موجود بین دو سلول A1 و C5

- (۴) میانگین سلول های موجود بین دو سلول A1 و C5

۱۸- کدام یک از توابع زیر در نرم افزار اکسل، مربوط به شمارش سلول های انتخاب شده و دارای یک شرط خاص است؟

- (۱) count (۲) counta (۳) count blank (۴) countif

۱۹- در نرم افزار اکسل، محل یا نشانی یک سلول از چه اجزایی تشکیل شده است؟

- (۱) نام ستون + نام سطر (۲) نام ستون + شماره ردیف سطر (۳) نام سطر + نام ستون (۴) نام سطر + شماره ردیف ستون

۲۰- کدام بخش از URL، معمولاً نشان دهنده زمینه فعالیت سایت می باشد؟

- (۱) پروتکل (۲) نام سرویس دهنده (۳) نام ثبت شده (۴) دامنه

۲۱- با کدام یک از ترکیب کلیدهای زیر در نرم افزار ورد، مکان نما به ابتدای پاراگراف بعدی میرود؟

- (۱) Ctrl + Shift + ↑ (۲) Ctrl + ↑ (۳) Ctrl + ↓ (۴) Shift + ↓

## معارف اسلامی

۲۲- بر اساس نظر حضرت آیت الله خامنه ای کدام گزینه صحیح نمی باشد؟

- (۱) هدف ها و آرمان ها در تشکیل شخصیت آدمی موثر است  
(۲) نفس انسان یکی از عوامل مهم اثر گذار بر رفتار انسان است  
(۳) جهان بینی هر انسانی در تشکیل شخصیت او تاثیر چندانی ندارد  
(۴) فردگرایی یکی از عوامل تعارض و تفرقه در جامعه می باشد

۲۳- حاکم واقعی در جامعه اسلامی ... می باشد . {ایران عرضه}

- (۱) رهبر اسلامی (۲) خدا (۳) امامان (۴) پیامبران

۲۴- اساسی ترین مسئله دین کدام گزینه زیر میباشد؟

- (۱) توحید (۲) معاد (۳) ولایت (۴) عدالت

۲۵- خدای متعال در قرآن کریم خطاب به کدام پیامبر فرمودند تو را برای مردم قرار داده ایم؟

- (۱) حضرت محمد (ص)  
(۲) حضرت موسی  
(۳) حضرت نوح  
(۴) حضرت ابراهیم

۲۶- این نکته که "اگر حاکم به فکر کام جویی، قدرت طلبی و حفظ مقام باشد ضمانت لازم برای سلامت نظام باقی نخواهد ماند" به کدام یک از شرایط رهبری جامعه اشاره دارد؟

- (۱) عالم بودن (۲) عادل بودن (۳) فقیه بودن (۴) مجتهد بودن

۲۷- روزی که در آن باطن ها آشکار میشود و حقایق بسته باز میشود روز .... است.

- (۱) نشور (۲) قیامت (۳) یوم الدین (۴) روز جزا

۲۸- ..... یکی از آثار وضعی گناه میباشد.

- (۱) سرگشتگی و گمراهی (۲) مکافات دنیوی  
(۳) غضب الهی (۴) خسران ابدی

۲۹- در مورد تقسیم بندی موضوعات اخلاقی کدام دسته صحیح است؟

- (۱) اخلاق فردی، اخلاق اجتماعی، اخلاق الهی، اخلاق محیط زیست  
(۲) اخلاق فردی، اخلاق اجتماعی، اخلاق الهی، اخلاق دینی  
(۳) اخلاق فردی، اخلاق اجتماعی، اخلاق بندگی، اخلاق محیط زیست  
(۴) اخلاق فردی، اخلاق اجتماعی، اخلاق بندگی، اخلاق دینی



## زبان و ادبیات فارسی

۳۰- در این بیت چه صنعت بدیعی دیده می شود؟

«شود کوه آهن چو دریای آب اگر بشنود نام افراسیاب»

(۱) اغراق (۲) ایهام (۳) التفات (۴) تلمیح

۳۱- شاهنامه فردوسی در کدام قالب شعری سروده شده است؟

(۱) قطعه (۲) قصیده (۳) ترکیب بند (۴) مثنوی

۳۲- کدام یک وزن مثنوی معنوی است؟ (متعلق به سایت ایران عرضه)

(۱) فعولن فعولن فعولن فعل (۲) مستفعلن فاعلن مستفعلن فاعلن

(۳) فاعلاتن فاعلاتن فاعلن (۴) فاعلاتن مفاعلن فاعلن

۳۳- همه آثار زیر متعلق به جامی هستند، به جز:

(۱) رساله دلگشا (۲) نفحات الانس (۳) تحفه الاحرار (۴) بهارستان

۳۴- در کدام گزینه «موضوع بی اعتباری دنیا» مشهود است؟

(۱) ده روز مهر گردون افسانه است و افسون  
(۲) این قافله بر قافله پویان سوی آن مرحله  
(۳) نومید شو ز هر که توانی و هر چه هست  
(۴) کی رسد آشفتگی از روزگار بو العجب

نیکی به جای یاران فرصت شمار یارا  
چون بر نمی گردد سرت چون دل نمی جوشد تو را  
که امیدهای باطل ما را شمار نیست  
آن چه از چشم بدین آشفته کاران می رسد

۳۵- در کدام گزینه «کنایه» به کار رفته است؟

(۱) بزد تیر بر چشم اسفندیار \*\*\* سیه شد جهان پیش آن نامدار  
(۲) تهمتن گز اندر کمان راند زود \*\*\* بران سان که سیمرغ فرموده بود  
(۳) ترا گر همی یار باید بیار \*\*\* مرا یار هرگز نیاید به کار  
(۴) بفرمود تا زین بر اسپ سیاه \*\*\* نهادند و بردند نزدیک شاه

۳۶- مفهوم کلی بیت زیر با کدام بیت تناسب دارد؟

« موی سپید را فلکم رایگان نداد این رشته را به نقد جوانی خریده ام »

(۱) چگونه پیر جوانی و جاهلی نکند درین قضیه که گردد جهان پیر جوان  
(۲) برف پیری می نشیند بر سرم همچنان طبعم جوانی می کند  
(۳) قدح پر کن که من در دولت عشق جوانبخت جهانم گرچه پیرم  
(۴) سال ها با بار پیری خم شدم در جستجوییش تا به چاه گور هم رفتم نشد پیدا جوانی

۳۷- در کدام گزینه اثری منسوب به محمد تقی بهار آمده است؟

(۲) گنجینه نشاط

(۱) ایده آل

(۴) خداوند نامه

(۳) تاریخ تطور در شعر فارسی

۳۸- مهم ترین قالب نثر دوره معاصر کدام است؟

(۱) نثر داستانی (۲) ادبیات نمایشی (۳) سفر نامه (۴) مقاله

۳۹- در بیت زیر کدام آرایه به کار نرفته است؟

«طاووس این بهارم، ساغر کش خمارم در راه انتظارم صد چشم و یک بریدن»

(۱) سجع (۲) تلمیح (۳) تشبیه (۴) تضمین

۴۰- در کدام بیت «اغراق» به کار رفته است؟

(۱) دل و کثورت جمع و معمور باد ز ملک پراکندگی دور باد

(۲) گر برگ گل سرخ کنی پیرهنش را از تازگی آزار رساند بدنش را

(۳) بگویم تا بداند دشمن و دوست که من مستی و مستوری ندانم

(۴) «صائب» مدد خلق نمودیم به همت در ظاهر اگر مالک دینار نبودیم

۴۱- در کدام گزینه به مفهوم «تاثیر گذاری زنان» اشاره نشده است؟

(۱) به کار علم و عفت کوش امروز که مام مردم فردایی ای زن

(۲) من این را یافتم از شاه و درویش که زن آسان بر آید با کم و بیش

(۳) همیشه دختر امروز مادر فرداست ز مادر است میسر بزرگی پسران

(۴) اگر فلاطن و سقراط بوده اند بزرگ بزرگ بوده پرستار خردی ایشان

## ریاضی و آمار مقدماتی

۴۲- اگر  $A = \{1, 3, 4, 7\}$  و  $B = \{3, 7, 9\}$  باشد آنگاه حاصل  $(A - B) \cup (B - A)$  عبارت است از:

(۱)  $\{1, 3, 9\}$  (۲)  $\{1, 4, 7\}$  (۳)  $\{3, 4, 7\}$  (۴)  $\{1, 4, 9\}$

۴۳- اگر  $x = 1 + \sqrt{2}$  و  $y = -1 + \sqrt{2}$  باشد، حاصل عبارت  $\frac{xy^3 + x^3y - 2x^2y^2}{x^3y - xy^3}$  کدام است؟ (تهیه شده توسط ایران عرضه)

(۱)  $-2\sqrt{2}$  (۲)  $\frac{\sqrt{2}}{2}$  (۳)  $-\frac{\sqrt{2}}{2}$  (۴)  $2\sqrt{2}$

۴۴- در تجزیه ی عبارت  $x^2 - (x^2 - 20)^2$  کدام عامل ضرب زیر وجود ندارد؟

(۱)  $x - 5$  (۲)  $x + 4$  (۳)  $x - 1$  (۴)  $x + 5$

۴۵- حاصل عبارت گویای  $\frac{2x}{2x+1} + \frac{2}{2x-1} - \frac{2x+3}{4x^2-1}$  کدام است؟

(۱)  $-1$  (۲)  $-2$  (۳)  $1$  (۴)  $2$

۴۶- اگر  $f(x) = \sqrt{x^2 - 3}$  آن گاه  $f(x) = \sqrt{x^2 - 3}$  برابر است با:

(۱)  $1 + \sqrt{5}$  (۲)  $\sqrt{15} - 1$  (۳)  $1 - \sqrt{15}$  (۴)  $1 - 3\sqrt{5}$

۴۷- در تابع با ضابطه  $f(x) = mx^2 + nx - 1$  اگر  $f(1) = 6$  و  $f(2) = 13$  مقدار  $n$  برابر است با:

(۱) ۶ (۲) ۳ (۳) ۷ (۴) ۲

۴۸- میانگین ۸ داده آماری  $16/5$  است. اگر دو داده ۱۸ و ۲۲ را از آن داده ها کنار بگذاریم، میانگین ۶ داده حاصل کدام

است؟

(۱)  $14/23$  (۲)  $15/33$  (۳)  $14/52$  (۴)  $15/52$

۴۹- در جدول فراوانی مقابل، میانگین به صورت  $\bar{x} = 11 + 2a$  محاسبه شده است. مقدار  $a$  کدام است؟

X	۷	۹	۱۱	۱۳	۱۵
F	۱	۴	۴	۹	۲

(۱)  $0/35$

(۲)  $0/46$

(۳)  $0/52$

(۴)  $0/64$

۵۰- اگر تمام داده ها را ۲ برابر کنیم مد و میانه داده های حاصل چگونه خواهند بود؟

(۱) فقط مد تغییر می کند (۲) فقط میانه تغییر می کند

(۳) هر دو تغییر می کند (۴) هیچ کدام تغییر می کند

۵۱- واریانس داده های آماری ۱۲، ۱۵، ۱۳، ۱۲، ۱۴، ۱۳، ۱۰ و ۱۵ کدام است؟

(۱)  $1/75$  (۲)  $2/25$  (۳)  $2/5$  (۴)  $4$

## اطلاعات عمومی، دانش اجتماعی و حقوق اساسی

۵۲- طبق اصل ..... قانون اساسی جمهوری اسلامی ایران:

«برخوداری از تأمین اجتماعی از نظر بازنشستگی، بیکاری، پیری، از کار افتادگی، بی سرپرستی، در راه ماندگی، حوادث و

سوانح، نیاز به خدمات بهداشتی درمانی و مراقبت های پزشکی به صورت بیمه و غیره حقی است همگانی»

(۱) اصل ۲۹ (۲) اصل ۶۴ (۳) اصل ۲۷ (۴) اصل ۳۲

۵۳- شناخت و آگاهی هر فرد نسبت به جهان هستی، چه نام دارد؟

(۱) ایدئولوژی (۲) اصول عقاید (۳) جهان بینی (۴) علم الاشياء

۵۴- کوچک ترین استان ایران از لحاظ وسعت کدام است؟

(۱) البرز (۲) قزوین (۳) قم (۴) کهگیلویه و بویر احمد

۵۵- سوسیالیسم یعنی چه؟ (ایران عرضه)

(۱) برابری اقشار مختلف جامعه در سود (۲) مالکیت مردم بر دارایی

(۳) اعتقاد به اصالت امور دنیوی (۴) اعتقاد به لزوم آداب و رسوم

۵۶- اعطای نشان دولتی به عهده کیست؟

- (۱) مقام معظم رهبری  
(۲) رئیس جمهور  
(۳) مجلس شورای اسلامی  
(۴) شورای نگهبان

۵۷- دولت مکلف است برای افراد جامعه تحصیلات رایگان را تا چه زمانی فراهم کند؟

- (۱) پایان دوره متوسطه  
(۲) پایان دوره ابتدایی  
(۳) پایان آموزش عالی  
(۴) هیچ کدام

۵۸- شیخ الاشراق لقب کدام یک از علمای زیر است؟

- (۱) ابوعلی سینا  
(۲) سهروردی  
(۳) ابوریحان بیرونی  
(۴) خواجه نصیرالدین طوسی

۵۹- رسیدگی به تخلفات رئیس جمهور بر عهده کیست؟

- (۱) دیوان عدالت  
(۲) سازمان بازرسی اداری  
(۳) شورای نگهبان  
(۴) دیوان عالی کشور

۶۰- روز تامین اجتماعی چه روزی است؟

- (۱) ۱۲ تیر  
(۲) ۵ تیر  
(۳) ۲۵ تیر  
(۴) ۲۲ تیر

زبان انگلیسی عمومی

Vocabulary

Choose the word or phrase ) 1) , ) 2) , ) 3) or ) 4) that best completes the sentence

لغت

از بین گزینه های (۱)، (۲)، (۳) و (۴) گزینه مناسب را انتخاب کنید که هر جمله را به بهترین شکل تکمیل می کند.

61- I don't know how we are going to ..... the expected surge of immigrants into the country.

- 1) run throught      2) put out      3) cope white      4) take down

62- In Ethiopia, primitive farming practices of natural vegetation have transformed much of the country's highlands ..... bare landscapes, but all destroyed ..... erosion.

- 1) into / by      2) above / of      3) for / with      4) in / under

63- We have relatively ..... gold and uranium on Earth only because many supernova explosions had occurred just before the solar system formed. (source: iran arze website)

- 1) feeble      2) hinder      3) pedestrian      4) abundant

64- If you realize mid0 climb that your rock climbing rope is frayed, you might be in ..... .

- 1) neck levs      2) peril      3) transparent      4) vandal

65- Her voice had become ..... from shouting. Her last words were almost Inaudible.

- 1) hoarse                      2) flexible                      3) duplicate                      4) comprehensive

**Grammar**

66- Tourists ..... when large numbers of middle-class people ..... to join the wealthier aristocratic travelers.

- 1) have originated / has begun                      2) had originated / began  
3) originated began                      4) were originating / are beginning

67- As the tree was too high to climb, the mischievous boys ..... their ball down only by throwing sticks at it.

- 1) could have knocked                      2) will have to knock  
3) would have knocked                      4) were able to knock

68- Certain serious diseases can be successfully treated ..... detected in an initial stage.

- 1) unless                      2) even when                      3) before                      4) if

69- ..... you have made minimal progress; it is by no means the kind of progress that you need to make.

- 1) Despite                      2) According                      3) While                      4) Considering

70- A combination of imagination and determination ..... Peter ..... entirely new lines of research concerned with the way animals survive extreme environmental conditions

- 1) have allowed / being developed                      2) allowed / to develop  
3) were allowed / to have developed                      4) will allow / to be developing

## هوش و استعداد شغلی

۷۱- در یک مستطیل همواره:

- (۱) دو ضلع مجاور با هم مساوی اند  
(۲) دو ضلع مجاور بر هم عمودند  
(۳) قطرها بر هم عمودند  
(۴) قطرها با هم زاویه ۴۵ درجه می سازند

۷۲- ۵ به  $2\frac{3}{4}$  مانند ۲۰ است به:

- (۱)  $8\frac{3}{4}$                       (۲) ۱۱                      (۳)  $13\frac{3}{4}$                       (۴) ۱۵

۷۳- در یک کلاس دو سوم دانشجویان انگلیسی می دانند، دو سوم همین کلاس فرانسه می دانند، علی دانشجوی این کلاس

است، او ..... ایران عرضه

۱) قطعاً انگلیسی و فرانسه را با هم نمی داند. ۲) ممکن است انگلیسی و فرانسه را با هم بداند.

۳) حتماً فرانسه می داند. ۴) حتماً انگلیسی می داند.

۷۴- قطاری ۲۰ متر را در  $\frac{1}{5}$  ثانیه طی میکند، با همین سرعت چند متر را در ۳ ثانیه طی می کند؟

۱) ۲۰۰ (۲) ۲۵۰ (۳) ۳۰۰ (۴) ۳۵۰

۷۵- رابطه مقابل را کدام یک از گزینه ها تکمیل می کند؟ نسبت «زمان» به «جوان» مثل نسبت ۵۳۳۲ است به

.....

۱) ۲۵۲۳ (۲) ۳۲۵۲ (۳) ۳۱۳۲ (۴) ۳۲۲۵

۷۶- به جای علامت سؤال چه عددی را باید نوشت؟

؟ ، ۴ ، ۳۲ ، ۸ ، ۳۳ ، ۱۱ ، ۲۶ ، ۱۳

۱) ۱۶ (۲) ۱۲ (۳) ۲۰ (۴) ۸

۷۷- در یک زبان ناشناخته، «سافل گیمر بیمون» یعنی «خانه بزرگ آجری» و «گیمر شاسیل» یعنی «دیوار آجری» و

«فراسی سافل» یعنی «خانه درختی». در این زبان به «بزرگ» چه می گویند؟

۱) سافل (۲) گیمر (۳) شاسیل (۴) بیمون

۷۸- «اهالی پایین دره دردرس ساز اند» همین معنا را می دهد که:

۱) افراد دردرس ساز نیستند، مگر این که از اهالی پایین دره باشند.

۲) اگر که فردی از اهالی پایین دره باشد، پس آن فرد دردرس ساز است.

۳) حداقل یک فرد وجود دارد که اهل پایین دره است و درد سر ساز است.

۴) اگر فردی دردرس ساز باشد، پس آن فرد از اهالی پایین دره است.

۷۹- در سرشماری از ۱۰۰۰ خانواده معلوم شد ۷۰۰ مورد از آنها دارای تلفن و ۵۰۰ مورد از آنها فاقد اتومبیل هستند و هیچ

خانواده ای نبود که حداقل یکی از این دو وسیله را نداشته باشد، چند نفر از خانواده هایی که فاقد تلفن هستند دارای اتومبیل

می باشند؟

۱) ۲۰۰ (۲) ۳۰۰ (۳) ۴۰۰ (۴) ۵۰۰

۸۰- اگر فروشنده ای ابتدا قیمت جنسی را ۴۰ درصد افزایش داده و سپس با ۳۰ درصد تخفیف آن را بفروشد، در نتیجه او

جنس خود را:

۱) به همان قیمت اولیه فروخته است ۲) گران تر از قیمت اولیه فروخته است

۳) ارزان تر از قیمت اولیه فروخته است ۴) اطلاعات مساله کافی نیست.

## ◀ شناخت تأمین اجتماعی

۸۱- کدام جمله صحیح است؟

۱) سازمان تامین اجتماعی بر اساس قانون یک نهاد عمومی دولتی است که منابع مالی آن از محل حق بیمه ها با مشارکت کارفرما و بیمه شده تامین می گردد.

۲) سازمان تامین اجتماعی متکی به دولت نیست ولی قابلیت ادغام با دیگر سازمان های حمایتی دولتی یا غیر دولتی را دارد.

۳) سازمان تامین اجتماعی بر اساس قانون یک نهاد عمومی غیر دولتی است که عمده منابع مالی آن از محل حق بیمه ها با مشارکت کارفرما و بیمه شده تامین می گردد.

۴) تکیه گاه اصلی سازمان مشارکت دو جانبه کارفرمایان و بیمه شدگان می باشند.

۸۲- کدام قانون تنظیم کننده روابط کار و تضمین کننده حقوق کارفرما و کارگر است؟ (تهیه شده توسط ایران عرضه)

۱) قانون کار ۲) قانون تامین اجتماعی

۳) قانون تجارت ۴) قانون بیمه بیکاری

۸۳- بزرگترین نماینده بیمه کشور ..... می باشد.

۱) صندوق تامین اجتماعی نیروهای مسلح ۲) صندوق بیمه اجتماعی روستائیان و عشایر

۳) صندوق بازنشستگی کشور ۴) صندوق تامین اجتماعی

۸۴- قانون بازنشستگی پیش از موعد در چه سالی به تصویب رسیده است؟

۱) ۱۳۶۵ ۲) ۱۳۶۶ ۳) ۱۳۶۷ ۴) ۱۳۶۸

۸۵- هیئت امنای سازمان تامین اجتماعی چند نفر بوده و چند نفر از آنها با پیشنهاد وزیر تعاون، کار و رفاه اجتماعی و تصویب شورای عالی رفاه تامین اجتماعی تعیین می شوند؟

۱) ۹ نفر ۶ نفر ۲) ۷ نفر ۵ نفر ۳) ۱۱ نفر ۷ نفر ۴) ۹ نفر ۵ نفر

۸۶- کدام یک از ادارات کل، زیر مجموعه معاونت اقتصادی و سرمایه گذاری نمی باشد؟

۱) اداره کل نظارت بر امور شوراها ۲) اداره کل امور مجلس و دولت

۳) اداره کل ذخایر، سرمایه گذاری املاک ۴) اداره کل امور مجامع و شرکت ها

۸۷- ادارات کل معاونت بیمه ای عبارت اند از:

۱) اداره کل مستمری ها اداره کل امور بیمه شدگان اداره کل حقوقی و قوانین اداره کل نام نویسی و حسابهای انفرادی

۲) اداره کل مستمری ها اداره کل امور بیمه شدگان اداره کل حقوقی و قوانین اداره کل امور بین المللی

۳) اداره کل مستمری ها اداره کل امور بیمه شدگان اداره کل وصول حق بیمه اداره کل حقوقی و قوانین

۴) اداره کل مستمری ها اداره کل امور بیمه شدگان اداره کل وصول حق بیمه اداره کل نام نویسی و حسابهای انفرادی

۸۸- راهبری فعالیت های نظارتی و ارزشیابی واحدهای اجرایی تابعه از دو بعد مدیریتی عملیاتی از وظایف کدام یک از

معاونتهای سازمان تامین اجتماعی می باشد؟

۱) معاونت برنامه ریزی مالی و پشتیبانی ۲) معاونت فرهنگی اجتماعی و امور استان ها



۸۹- اگر در اثر حادثه ناشی از کار یا بیماری حرفه ای از کار افتادگی کلی شناخته شود شرایط دریافت مستمری چگونه است؟

- (۱) بدون در نظر گرفتن مدت حق بیمه، استحقاق دریافت مستمری را خواهد داشت.
- (۲) بیمه شده حداقل ظرف ده سال قبل از وقوع حادثه، سابقه پرداخت یک سال بیمه را داشته باشد.
- (۳) بیمه شده حداقل طی یک سال منتهی به حادثه حداقل ۹۰ روز حق بیمه پرداخت کرده باشد.
- (۴) مجموعه سنوات بیمه ای پرداخت شده تا روز حادثه حداقل ۲۳ ماه باشد.

۹۰- کدام دسته مشمول دریافت عیدی می شوند؟

- (۱) مستمری بگیران بازنشسته
- (۲) مستمری بگیران از کار افتاده کلی و بازماندگان
- (۳) مستمری بگیران باز مانده زن که دارای حداقل یک فرزند باشند
- (۴) موارد ۱ و ۲

